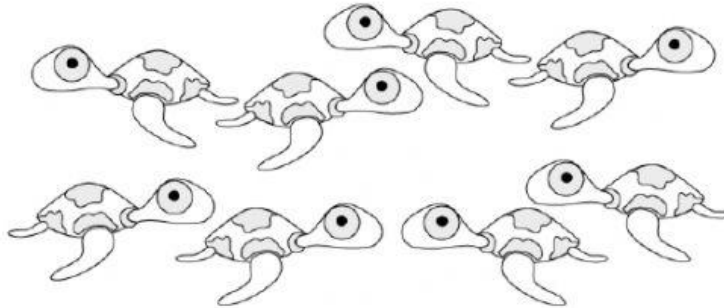



EXAMEN BIMESTRAL DE ARITMÉTICA

Nombre: _____ Fecha: 13/05/21


1.- Marca las tortugas que se dirigen hacia el lado izquierdo.



2.- Marca los animalitos que se dirigen hacia el lado derecho.



3.- Marca los elementos que pertenecen al conjunto M



.guitarra ☐ M

.sombra ☐ M

.carro ☐ M

.guante ☐ M







.tambor ☐ M

.flauta ☐ M

4.- Coloca el signo $>$, $<$ o $=$.

5 ○ 1	3 ○ 4	4 ○ 4	0 ○ 5
7 ○ 8	9 ○ 3	8 ○ 2	5 ○ 5

5.- Coloca el número anterior, posterior.

6.- Ordena los números en forma decreciente.

10	0	7	5	8	3
----	---	---	---	---	---

--	--	--	--	--	--

7.- Ordena los números en forma creciente.

2	9	10	4	6	8
---	---	----	---	---	---

--	--	--	--	--	--

8.- Marca el dibujo que tiene muchos globos.



9.- Marca el dibujo que tiene pocos pájaritos.



10.- Escribe como se lee el número.

