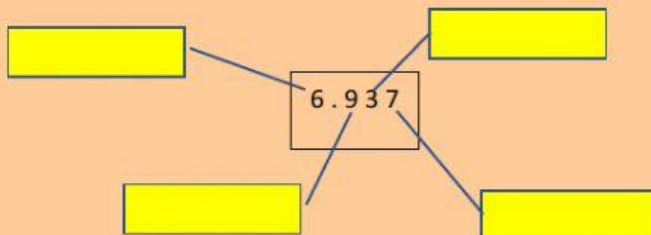




Numeración Decimal



1) Escribí el valor de cada cifra (de acuerdo al lugar que ocupe):



2) Escribí el anterior y posterior (siguiente) de cada numero

Anterior	NUMERO	Siguiente
	80	
	198	
	509	
	2.000	
	3.999	
	5.550	

3) Marca la opción correcta

Ochocientos ocho	880	808	888
Dos mil cincuenta	2.500	2.005	2.050
Doscientos dos mil dos	202.002	222.000	200202
Treinta mil tres	33.000	30.003	30.300

4) Cuánto dinero hay? selecciona la opción correcta



2403

2430

4203

5) Arrastrar a donde corresponda en la recta numerica

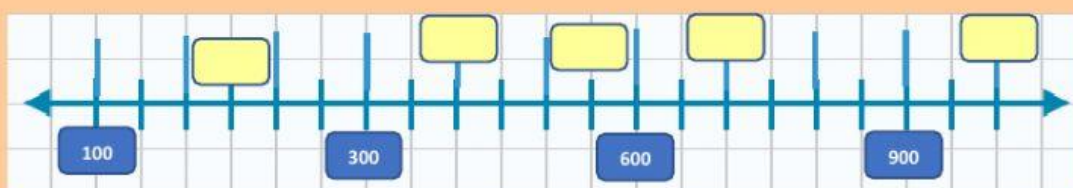
400

1000

550

250

700



5) Resolver mentalmente y seleccionar el resultado correcto:

- a) $47+30=$
- b) $45-25=$
- c) $62+33=$
- d) $57-17=$
- e) $38+50=$
- f) $90-45=$
- g) $130+51=$

6) Arrastra al lugar que corresponda :

- $47 +$ $=70$ 33
- $+ 30 =63$ 25
- $80 -$ $=25$ 23
- $36 +$ $= 99$ 55
- $68 -$ $=43$ 63


7) Estima el resultado y arrastra mayor , menor o igual

- $358+489$ 1.000
- $1.000-600$ 400
- $589+1.823$ 2.000

8) Observa los precios y responde:



a) Arrastra aquí **dos electrodomésticos** que se puedan comprar con \$ 2100



b) Arrastra aquí **otro electrodoméstico** que se puede comprar junto con el **microondas** y gastar **menos de \$3000**



c) Arrastra aquí que electrodoméstico compro con \$ 400

