



AREA:	MATEMÁTICAS	ASIGNATURA:	ARITMÉTICA	VALORACION
FECHA:		CURSO:	PRIMERO	
SEMESTRE/ CORTE No:	I SEMESTRE	DOCENTE:	LUCIA ALFONSO AMAYA	
NOMBRE DEL ESTUDIANTE:				



SUMAS DE DECENAS COMPLETAS

1. Escribe el valor de cada grupo y luego realiza las sumas.



$$\square + \square = \square$$

$$\square + \square = \square$$



$$\square + \square = \square$$

$$\square + \square = \square$$


$$20 + 30 = \bigcirc$$



$$40 + 10 = \bigcirc$$



$$70 + 20 = \bigcirc$$



$$50 + 50 = \bigcirc$$

