

NOME:

PROFESSORA:

DATA:

► LIGUE OS PORQUINHOS ATÉ AS CASAS QUE CADA UM CONSTRUIU.



► SELECIONE OS QUADRADOS DE ACORDO COM A QUANTIDADE DE SÍLABAS DAS PALAVRAS ABAIXO:



LOBO

--	--	--	--	--	--



PORQUINHOS

--	--	--	--	--	--



TIJOLO

--	--	--	--	--	--









PALHA

--	--	--	--	--	--



CONTE QUANTOS ELEMENTOS CADA CONJUNTO POSSUI E MARQUE O NUMERAL CORRESPONDENTE.

5	4	7
---	---	---

6	7	8
---	---	---

2	6	4
---	---	---

9	10	8
---	----	---

10	9	11
----	---	----

3	2	6
---	---	---

