



# ESCUELA DE EDUCACIÓN BÁSICA "DR. DAVID RODAS CUERVO"

OCTAVA "B" NORTE ENTRE GUAYAS Y AYACUCHO  
TELÉFONO 072937379 EMAIL: [07h00114@gmail.com](mailto:07h00114@gmail.com)  
CODIGO AMIE 07H00114



## INSTRUMENTO DE EVALUACIÓN

NIVEL: BÁSICA MEDIA

ASIGNATURA: MATEMÁTICA

AÑO  
LECTIVO:  
2021-2022

AÑO EGB: 5TO PARALELO: A Y B

PRUEBA DE DIAGNÓSTICO 1

DOCENTE: Lic. JESSICA JARA RIVERA – LIC. CECIBEL SACCO ADRIAN

### INDICADORES ESENCIALES DE EVALUACIÓN:

Álgebra y funciones

1.- Lee y escribe elementos de la suma y resta.

2.- Leer y realizar las operaciones

ESTUDIANTE:

FECHA:

**DESTREZA:** M.3.1.7.  
Reconocer términos de la adición y sustracción, y calcular la suma o la diferencia de números naturales.

### 1.- RESUELVA Y COLOQUE LOS ELEMENTOS DE LA SUMA EN EL LUGAR CORRECTO

	5	8	4
	4	1	3

SUMANDO

SUMA O TOTAL

SUMANDO

### 2.- RESUELVA Y COLOQUE LOS ELEMENTOS DE LA RESTA EN EL LUGAR CORRECTO


5	8	4
4	1	3


SUSTRAENDO  
MINUENDO  
RESTA O  
DIFERENCIA  
SIGNO MENOS

### DESTREZA:

M.3.1.4. Leer y escribir números naturales en cualquier contexto.

### 3.- ESCRIBE SEGUN CORRESPONDA

346

--

412




--

211

--

521

--

<b>DESTREZA:</b> M.3.1.13. Resolver problemas que requieran el uso de operaciones combinadas con números naturales e interpretar la solución dentro del contexto del problema.	<b>4.- UNIR CON LÍNEAS, SEGÚN CORRESPONDA.</b>										
	<table border="1"> <tr> <td>50 + 8 - 10</td> <td>30 + 80 - 20</td> <td>270 + 30 - 55</td> <td>256 + 30 - 4</td> </tr> </table>					50 + 8 - 10	30 + 80 - 20	270 + 30 - 55	256 + 30 - 4		
	50 + 8 - 10	30 + 80 - 20	270 + 30 - 55	256 + 30 - 4							
	<div style="display: flex; justify-content: space-around; align-items: center;"> <div style="border: 1px solid black; border-radius: 50%; width: 40px; height: 40px; display: flex; align-items: center; justify-content: center;">90</div> <div style="border: 1px solid black; border-radius: 50%; width: 40px; height: 40px; display: flex; align-items: center; justify-content: center;">48</div> <div style="border: 1px solid black; border-radius: 50%; width: 40px; height: 40px; display: flex; align-items: center; justify-content: center;">282</div> <div style="border: 1px solid black; border-radius: 50%; width: 40px; height: 40px; display: flex; align-items: center; justify-content: center;">245</div> </div>										
<b>5.- ESCOJA LAS RESPUESTAS CORRECTAS.</b>											
<table border="1"> <tr> <td>64 - 8 = 56</td> <td>60 - 7 = 53</td> <td>42 - 6 = 38</td> </tr> <tr> <td>21 - 3 = 19</td> <td>22 - 4 = 18</td> <td>24 - 5 = 20</td> </tr> </table>						64 - 8 = 56	60 - 7 = 53	42 - 6 = 38	21 - 3 = 19	22 - 4 = 18	24 - 5 = 20
64 - 8 = 56	60 - 7 = 53	42 - 6 = 38									
21 - 3 = 19	22 - 4 = 18	24 - 5 = 20									
<b>REALIZADO POR:</b>	<b>DIRECTORA</b>	<b>COORDINADORA TÉCNICO PEDAGÓGICA</b>	<b>COORDINADORA JUNTA ACADÉMICA</b>	<b>APOYO PSICOPEDAGÓGICO</b>	<b>ASESORA</b>						
Lic. Jéssica Jara Rivera Lic. Cecibel Sacco A.	Prof. Marianita Paladines	Lic. Esthela Jaramillo	Lic. Jéssica Jara Rivera								
											
FECHA: 7/05/2021	FECHA: 7/05/2021	FECHA: 7/05/2021	FECHA: 7/05/2021	FECHA:	FECHA:						