


División:


Lee cada situación. Luego, reparte los elementos que corresponden.

A) Reparte, en partes iguales, 6 panes en 2 platos.



¿Cuántos panes quedan en cada plato?

B) Reparte, en partes iguales, 12 manzanas en 3 cajas.



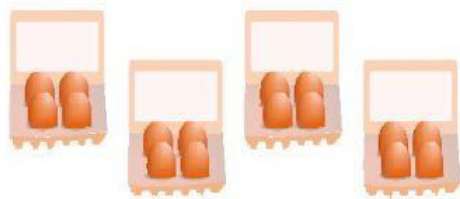
¿Cuántas manzanas quedan en cada caja?

C) Une, con una línea, cada dibujo con la división correspondiente.



$$15 : 5 = 3$$


$$10 : 2 = 5$$



$$9 : 3 = 3$$



$$16 : 4 = 4$$



Profesora diferencial: Jhonnelia Hernández

