

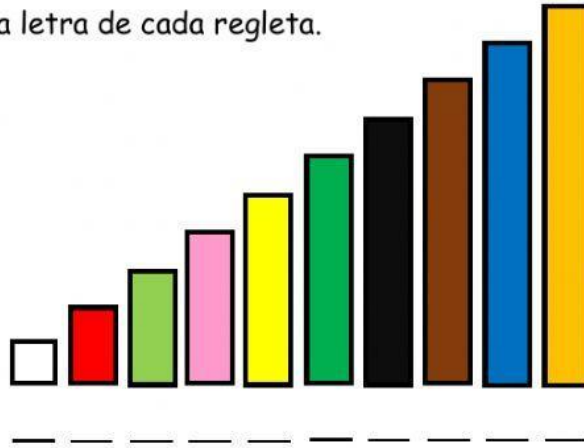


## Evaluación de matemáticas

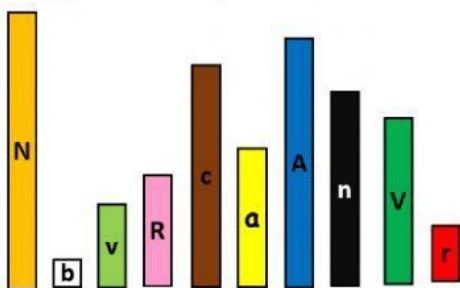
### Grado 101

Con ayuda de un adulto, realiza la lectura de cada una de las preguntas y sigue la indicación. Recuerda que los adultos solo ayudamos en la lectura, pero los niños son los que deben contestar las preguntas.

1. Escribe la letra de cada regleta.



2. Arrastra y ubica en forma descendente:



Orden descendente

3. Completa la construcción del número, según corresponda.

|                      |                      |                      |  |
|----------------------|----------------------|----------------------|--|
| <input type="text"/> | 6                    | <input type="text"/> |  |
| <input type="text"/> | <input type="text"/> | dos                  |  |
| <input type="text"/> | 7                    | <input type="text"/> |  |
| <input type="text"/> | <input type="text"/> | <input type="text"/> |  |

4. Selecciona la respuesta correcta:

- Observa las siguientes regletas y determina ¿Cuál es la suma que representa?



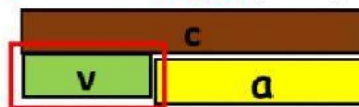
- a.  $5 - 1 = 6$
- b.  $5 + 1 = 6$
- c.  $3 + 3 = 6$

- Observa las siguientes regletas y determina ¿Cuál es la suma que representa?



- a.  $9 - 5 = 4$
- b.  $4 + 5 = 9$
- c.  $5 + 4 = 9$

- Observa las regletas ¿cuál es la **resta** que representan?



- a.  $8 - 3 = 5$
- b.  $3 + 5 = 8$
- c.  $8 - 5 = 3$

- Selecciona la regleta con la que completas y solucionas la resta.



- a. b
- b. R
- c. A

- ¿En qué posición esta Lucas?



- a. 1°
- b. 2°
- c. 4°

5. Escribe el número anterior o siguiente según corresponda:

\_\_\_\_\_5\_\_\_\_\_

\_\_\_\_\_3\_\_\_\_\_

6. Completa la relación escribiendo si es mayor o menor

- 6 es \_\_\_\_\_ que 9
- 4 es \_\_\_\_\_ que 1
- 5 es \_\_\_\_\_ que 8
- 6 es \_\_\_\_\_ que 2