

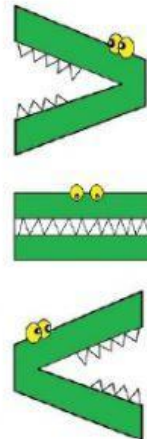


# MAYOR QUÉ, MENOR QUÉ, IGUAL



Escucha con atención la información de cada ejercicio. Arrastra al cuadro el símbolo del cocodrilo que corresponde dependiendo si es mayor, menor o igual la cantidad en cada grupo y por último selecciona la respuesta correcta a las preguntas.



✚ Paulina tiene 8 dulces y Sonia tiene 5 dulces.



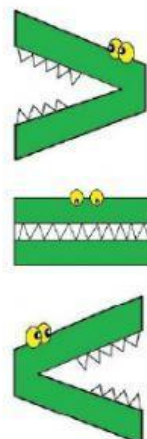
¿Quién tiene menos dulces?

SONIA

PAULINA

IGUAL

✚ Juan tiene 4 dinosaurios y Omar tiene 6 dinosaurios.



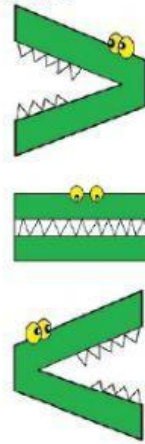

¿Quién tiene más dinosaurios?

JUAN

OMAR

IGUAL

✚ Alonso tiene 5 balones y Esmeralda tiene 5 cuerdas para brincar..



¿Quién tiene más objetos?

ESMERALDA

ALONSO

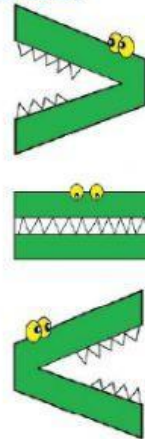
IGUAL

✚ Samuel tiene 2 sombreros y Magaly tiene 4 moños para su cabeza.

2



4



¿Quién tiene menos objetos?

SAMUEL

MAGALY

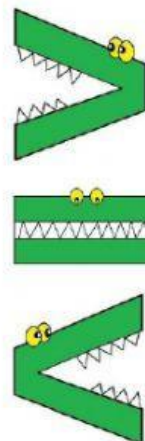
IGUAL

✚ Patricio tiene 3 almohadas y Carolina tiene 9 almohadas.

3



9



¿Quién tiene más almohadas?

PATRICIO

CAROLINA

IGUAL