



ANOTEN LOS PUNTAJES DE LOS TIROS DE DADOS QUE APARECEN ACÁ ABAJO.



RECUERDEN QUE EL PUNTAJE ES LA CANTIDAD DE PUNTOS QUE HAY ENTRE LOS DOS DADOS:

1



PUNTAJE

2



PUNTAJE

3

PUNTAJE

4

PUNTAJE

AHORA, ARRASTREN LOS DADOS QUE CORRESPONDAN PARA QUE SUMEN EL PUNTAJE QUE FIGURA DEBAJO.

PUNTAJE
5

