
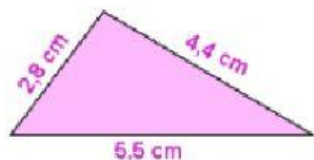


FICHAS DE PERÍMETRO Y ÁREA

Perímetro de polígonos



Coloca el perímetro correcto en cada caja.



- El perímetro del pentágono es de cm.
- El perímetro del cuadrilátero azul es de cm.
- El perímetro del triángulo es de cm.
- El perímetro del hexágono es de cm.
- El perímetro del cuadrilátero verde es de cm.



9,7

12,9

8,8

9

11

7,2

10,6

10

7,8

13,7

12,7

8


8,6

10,2

Área de una figura con un cuadrado unidad



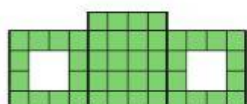
Cuenta y escribe en su caja correspondiente el área de cada figura.



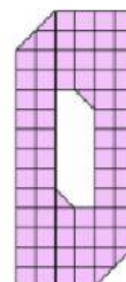
Área =



Área =



Área =



Área =