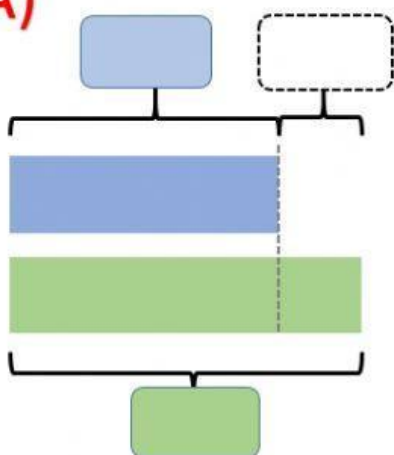


Demuestro lo aprendido 1: PROBLEMAS

Competencia:	Resuelve problemas de cantidad
Capacidad/Desempeño:	<p>Traduce datos a expresiones numéricas</p> <ul style="list-style-type: none"> - Traduce una o más acciones de agregar o quitar identificadas en problemas; a expresiones de adición y sustracción al plantear y resolver problemas. <p>Usa estrategias y procedimientos de estimación y cálculo</p> <ul style="list-style-type: none"> - Emplea estrategias heurísticas, cálculo escrito y otros procedimientos para resolver problemas.

Lee los problemas, completa los gráficos, realiza los cálculos y responde a la pregunta del problema.

A)

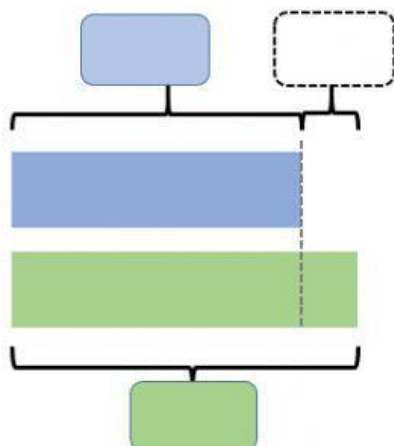


La diferencia entre dos números es 250. Si el menor de ellos es 1 225, **¿cuál es el otro número?**

$$\underline{\hspace{2cm}} \bigcirc \underline{\hspace{2cm}} = \underline{\hspace{2cm}}$$

Respuesta: El otro número es _____.

B)



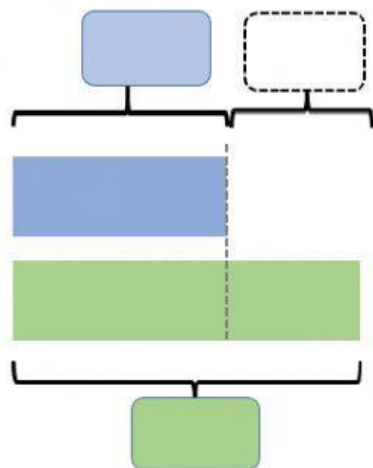
Si yo tengo 5 000 globos, es decir 750 más de lo que tiene Lía, **¿cuántos globos tiene Lía?**

$$\underline{\hspace{2cm}} \bigcirc \underline{\hspace{2cm}} = \underline{\hspace{2cm}}$$

Respuesta: Lía tiene _____ globos.

Código	R-12-02-06
Versión	05
Fecha	31-01-21
Página	2 de 3

C)

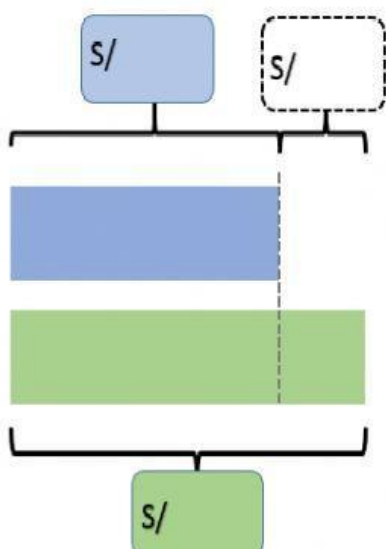


En una granja hay 2 800 gallinas y 1 740 conejos, **¿cuántas más gallinas que conejos hay?**

$$\underline{\hspace{2cm}} \bigcirc \underline{\hspace{2cm}} = \underline{\hspace{2cm}}$$

Respuesta: Hay más gallinas que conejos.

D)



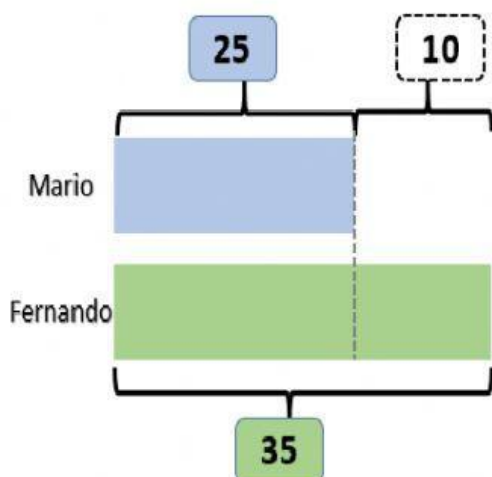
Yo tengo S/350 menos de lo que tú tienes. Si yo tengo S/1500, **¿cuánto tienes tú?**

$$\underline{\hspace{2cm}} \bigcirc \underline{\hspace{2cm}} = \underline{\hspace{2cm}}$$

Respuesta: Tú tienes S/ .

Código	R-12-02-06
Versión	05
Fecha	31-01-21
Página	3 de 3

Observa el gráfico y completa los enunciados.



- Mario tiene 25 semillas.
- Fernando tiene 35 semillas.
- Fernando tiene 10 más semillas que Mario.
- Mario tiene que conseguir 10 semillas más para tener lo mismo que Fernando.
- La diferencia entre la cantidad de semillas de Mario y Fernando es 10.
- Juntos tienen 60 semillas.