



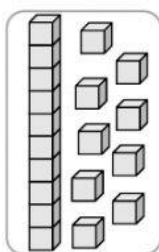
I.- Marca la alternativa correcta. (9 pts)

1. ¿Qué número se compone con $3D + 5U$?

- A. 53
- B. 35
- C. 305

2. ¿Qué número se representa?

- A. 91
- B. 29
- C. 19



3. ¿Cuál es una descomposición del número 43?

- A. 4 D + 3 U
- B. 40 D + 3 U
- C. 3 D + 4 U

4. De los siguientes números. ¿Cuál es el mayor?

- A. 29
- B. 76
- C. 93

5. ¿Cuál de los siguientes números es menor?

- A. 34
- B. 24
- C. 59

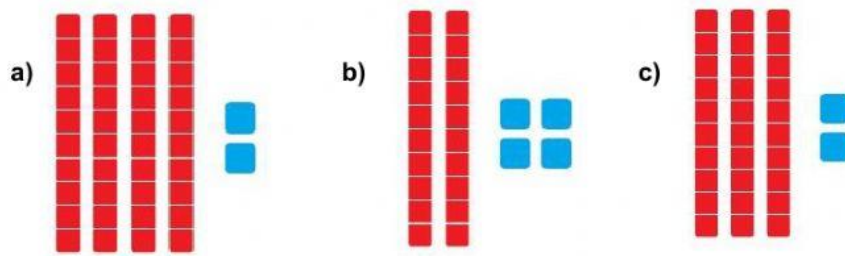
6. ¿Cuál de los siguientes números corresponde al treinta y dos?

- A. 23
- B. 302
- C. 32

7. ¿En cuál de los siguientes números el 8 se encuentra en la decena?


- A. 8
- B. 18
- C. 83

8. ¿Cuál representación corresponde al número 42?



9. ¿Qué número se representa?

- A. 32
B. 26
C. 36



II. Descompone los siguientes números en Unidad y Decena. (10 ptos.)

- a) 64 D + U
b) 80 D + U
c) 25 D + U
d) 6 D + U
e) 19 D + U

III. Escribe cuál es el número que se forma con la siguiente descomposición. (6 ptos.)

a) $3D + 2U =$

d) $9D + 6U =$

b) $7D + 1U =$

e) $5D + 1U =$

c) $2D =$

f) $4D + 3U =$

IV. Arrastra el signo que corresponde a cada ejercicio. (8 ptos.)

95		85
----	--	----

83		83
----	--	----

71		80
----	--	----

93		87
----	--	----

47		59
----	--	----


29		29
----	--	----

38		18
----	--	----

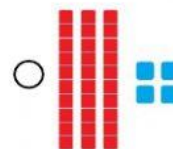
60		59
----	--	----

V. Une el número con su representación. (6 ptos)


46 ○



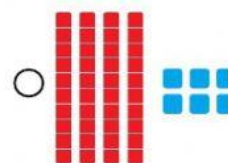
18 ○



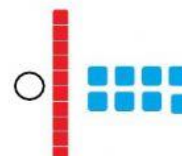
63 ○



34 ○



27 ○



52 ○



VI. Dictado. (6 ptos)

1.

2.

3.

4.

5.

6.