


Họ tên: _____ Lớp: 3A__

Phiếu 11. Ước lượng diện tích.

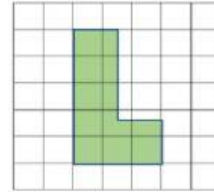
1.




 = 1 đơn vị vuông

Diện tích: _____

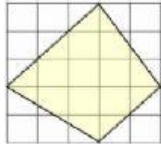
2.



 = 1cm^2

Diện tích: _____

3.



 = 1m^2

Diện tích: _____