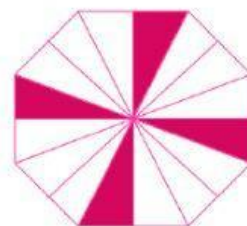

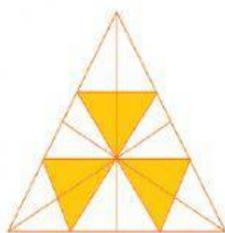
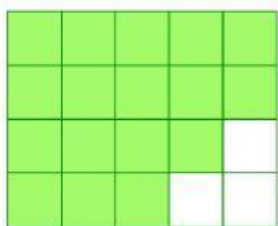


SUMA Y RESTA DE FRACCIONES

Observa las siguientes sumas y restas de fracciones, coloca la imagen que tenga el resultado de cada una.



$$\frac{12}{16} - \frac{8}{16} =$$



$$\frac{8}{15} + \frac{3}{15} =$$



$$\frac{15}{18} - \frac{9}{18} =$$



$$\frac{12}{20} + \frac{5}{20} =$$

