



SUBTRAÇÃO

1- IDEIA DE RETIRAR:

NA CESTA HAVIAM 58 MORANGOS. USEI 23. QUANTOS MORANGOS SOBRARAM?

	<table border="1"><tr><td>D</td><td>U</td></tr><tr><td></td><td></td></tr><tr><td>-</td><td></td></tr><tr><td></td><td></td></tr></table>	D	U			-			
D	U								
-									


CARLOS COMPROU 85 BILOCAS. DEU 23 PARA O SEU IRMÃO. QUANTAS BILOCAS CARLOS TEM AGORA?

	<table border="1"><tr><td>D</td><td>U</td></tr><tr><td></td><td></td></tr><tr><td>-</td><td></td></tr><tr><td></td><td></td></tr></table>	D	U			-			
D	U								
-									


2- IDEIA DE COMPARAR:

EXEMPLO:

SARA TEM 15 ANOS E LÉIA TEM 5. QUANTOS ANOS SARA TEM A MAIS QUE LÉIA?


	<table border="1"><tr><td>D</td><td>U</td></tr><tr><td></td><td></td></tr><tr><td>-</td><td></td></tr><tr><td></td><td></td></tr></table>	D	U			-			
D	U								
-									

NO PASSEIO DA ESCOLA FORAM USADOS DOIS ÔNIBUS. O PRIMEIRO TINHA 38 ALUNOS E O SEGUNDO 26. QUAL A DIFERENÇA DE ALUNOS ENTRE OS DOIS ÔNIBUS?


	<table border="1"> <tr> <td>D</td> <td>U</td> </tr> <tr> <td></td> <td></td> </tr> <tr> <td>-</td> <td></td> </tr> <tr> <td></td> <td></td> </tr> </table>	D	U			-			
D	U								
-									

3- IDEIA DE COMPLETAR:

PARA DANÇAR QUADRILHA A PROFESSORA CONVIDOU 88 CRIANÇAS. JÁ CHEGARAM 62. QUANTAS AINDA FALTAM?

	<table border="1"> <tr> <td>D</td> <td>U</td> </tr> <tr> <td></td> <td></td> </tr> <tr> <td>-</td> <td></td> </tr> <tr> <td></td> <td></td> </tr> </table>	D	U			-			
D	U								
-									

NA SALA DA TIA SANDRA TEM 36 CADEIRAS. JÁ CHEGARAM 11 CRIANÇAS. QUANTOS ALUNOS AINDA FALTAM CHEGAR?

	<table border="1"> <tr> <td>D</td> <td>U</td> </tr> <tr> <td></td> <td></td> </tr> <tr> <td>-</td> <td></td> </tr> <tr> <td></td> <td></td> </tr> </table>	D	U			-			
D	U								
-									

