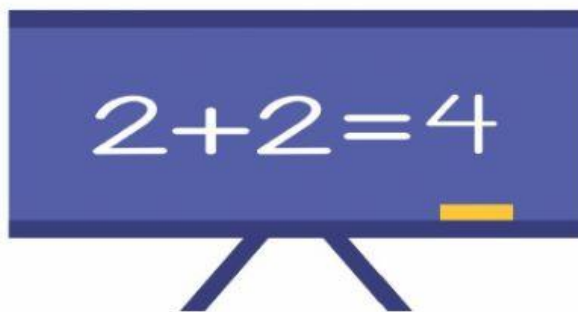

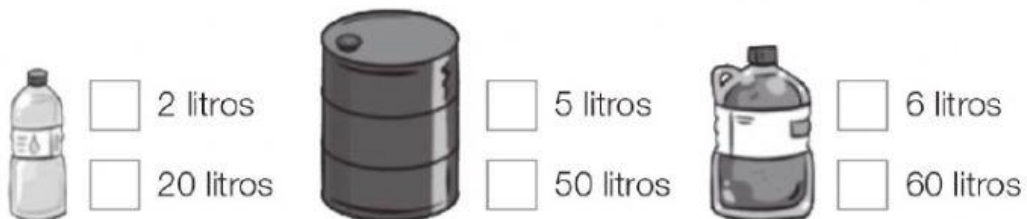


Nombre _____ Fecha _____

1 Observa cada dibujo y escribe cuántos litros son.



3 Observa y marca la medida correcta.



4 Ordena los números de menor a mayor.

978	765	864	928
-----	-----	-----	-----

<input type="text"/>	○	<input type="text"/>	○	<input type="text"/>	○	<input type="text"/>
----------------------	---	----------------------	---	----------------------	---	----------------------

5 **Completa.**

Número	C	D	U	Se escribe
639				
770				
	9	3	2	
				setecientos noventa
				seiscientos ocho
				novecientos diez

6 **Calcula.**

$$6 \times 4 = \square \quad 6 \times 6 = \square \quad 6 \times 8 = \square \quad 6 \times 9 = \square$$

7 **Ordena los números de mayor a menor.**

768 801 978 799 $\square \bigcirc \square \bigcirc \square \bigcirc \square$

8 **Observa. Después, calcula y contesta.**


¿Cuántos globos hay en total?

$$\square \times \square = \square$$



Solución ►

¿Cuántos huevos hay en total?





Suma ► $\square + \square + \square + \square + \square = \square$

Multiplicación ► $\square \times \square = \square$

Hay \square huevos.

- 9 Reparte, en partes iguales, 15 champiñones entre 3 cestos. Después, completa.



$\square : \square = \square \rightarrow$ En cada cesto hay

- 10 **Ordena los números de mayor a menor.**

768 801 978 799	<div style="border: 1px solid black; width: 40px; height: 40px; display: flex; align-items: center; justify-content: center;">○</div>	<div style="border: 1px solid black; width: 40px; height: 40px; display: flex; align-items: center; justify-content: center;">○</div>	<div style="border: 1px solid black; width: 40px; height: 40px; display: flex; align-items: center; justify-content: center;">○</div>
-----------------	---	---	---

- 11 Resuelve.**

Marta tenía 47 discos de música clásica y 24 de música rock. Le ha regalado 33 discos a su hermano. ¿Cuántos discos le quedan?

Primero sumamos
para calcular cuántos
discos tiene en total.

▶ ○	
<hr/>	
▶ ○	
<hr/>	

Después restamos para calcular cuántos discos le quedan.



Solución

►