



ACTIVIDAD 2 “EL PERIMETRO”



ASIGNATURA:

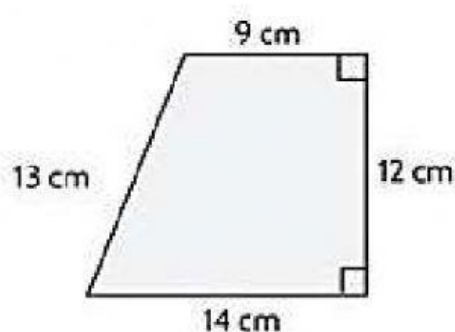
GEOMETRIA

PERIODO:

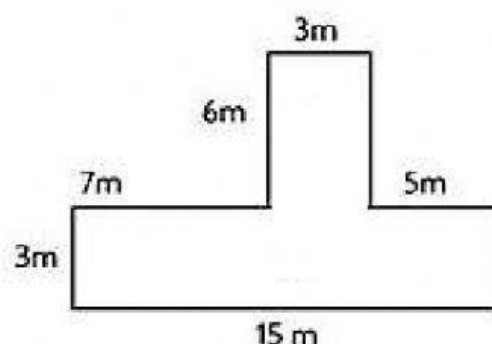
II

El perímetro

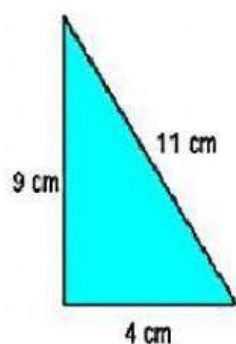
Calcula el perímetro de los siguientes polígonos y escribe el resultado. Hay que poner el número y cm, m ... o lo que corresponda sin dejar espacio para que la página lo corrija bien.



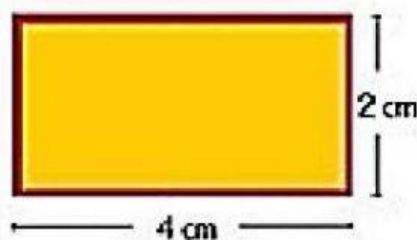
P=



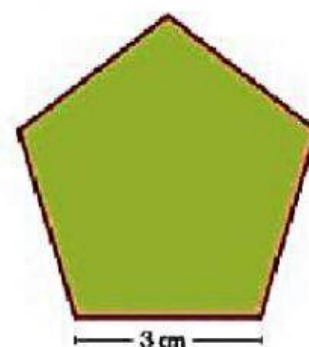
P=



P=



P=



P=