

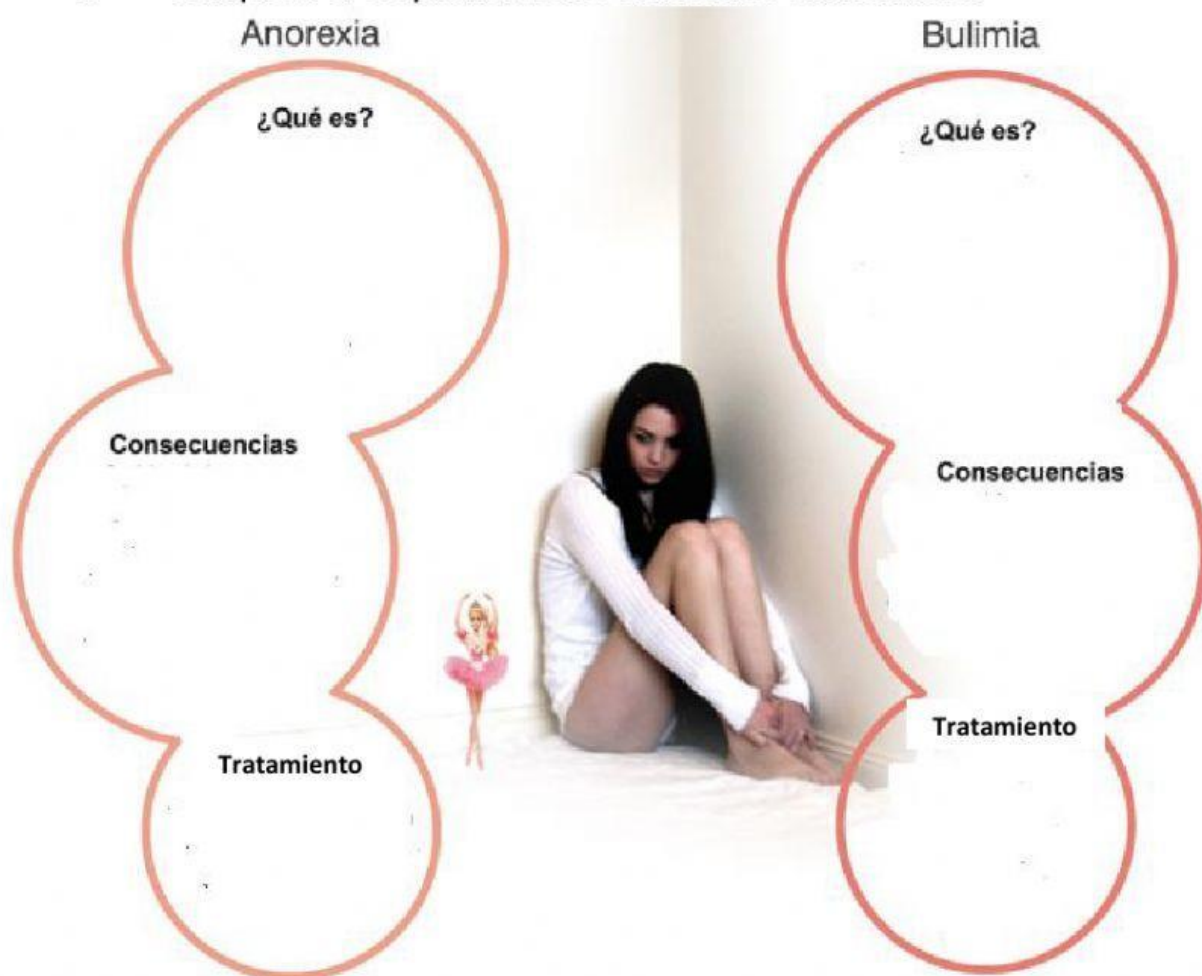
EVALUACIÓN DE PERSONAL SOCIAL- II UNIDAD

Apellidos y nombres: _____

Sexto Grado

FECHA: 10 de mayo de 2021

I. Completa el esquema de los trastornos alimenticios.



II. Escribe V si es verdadero o F si es falso según corresponda.

La adicción es la necesidad de consumir sustancias tóxicas.

☐

Las personas adictas son capaces de controlar o suprimir el uso de drogas en cualquier momento.

☐

La ludopatía, es la adicción a los juegos de azar o videojuegos

☐

La palabra "workaholic" se utiliza para designar a los adictos compulsivos al trabajo.

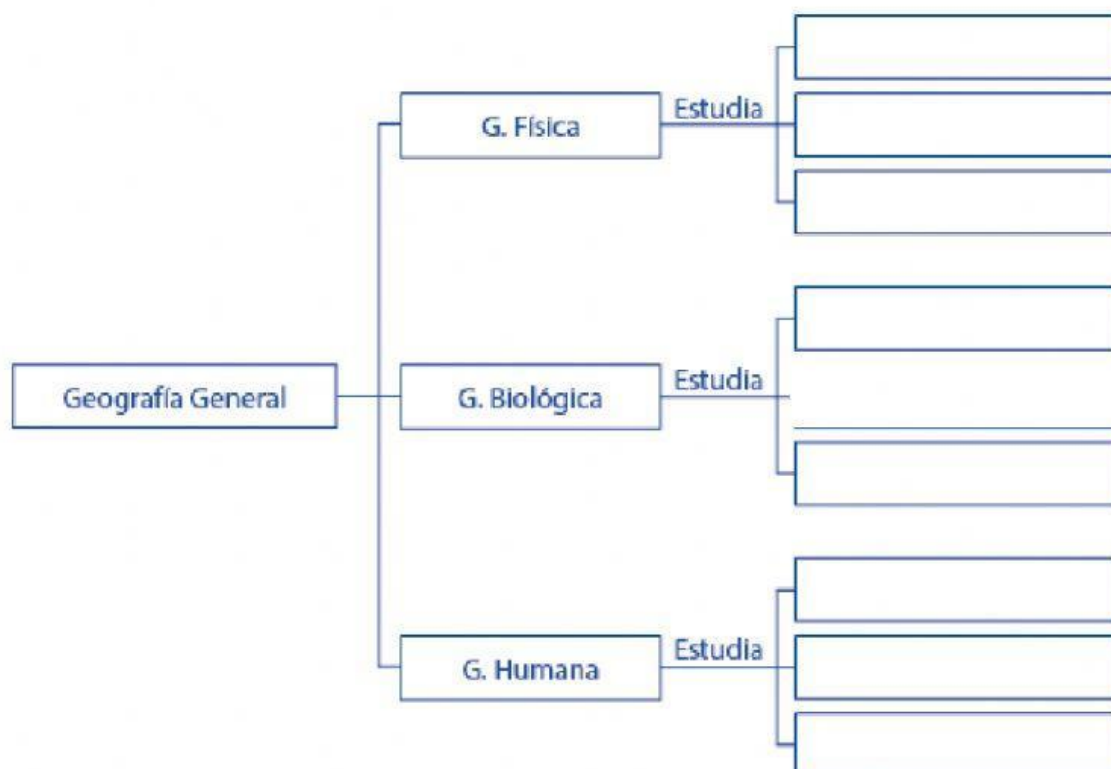
☐



Las personas adictas dejan el consumo de estas sustancias con ayuda de tratamientos caseros.

☐

III. Completa el organizador visual.



IV. Completa la tabla de los principios geográficos.



PRINCIPIOS GEOGRÁFICOS		
Principios	Sostiene	Ejemplo
Principio de localización.		
	Este principio se refiere a la necesidad que todo hecho o fenómeno geográfico debe analizarse en sus causas y consecuencias.	
	Los hechos de la realidad geográfica están relacionados entre sí.	
Actividad evolutiva, dinamismo		
	Estudia los fenómenos análogos (parecidos, semejantes) que pudieran presentarse en otros campos del planeta.	

V. Completa los espacios en blanco.

1. La línea ecuatorial divide a la Tierra en: _____ y

_____.

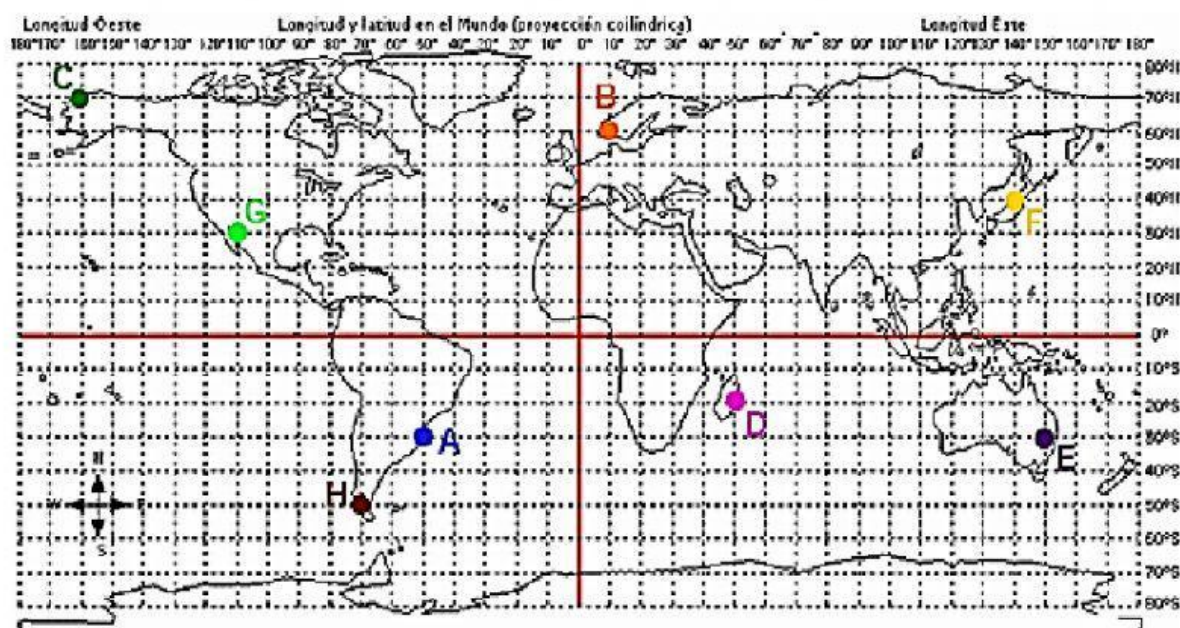
2. Las líneas imaginarias que son paralelas al Ecuador se llaman:

3. La distancia desde un punto cualquiera de la Tierra hasta la línea ecuatorial se llama _____.

4. Las líneas imaginarias que pasan por ambos polos se llaman:
_____.

5. La distancia desde un punto de la Tierra hasta el Meridiano de Greenwich se llama: _____.

VI. Indica las coordenadas señaladas en el planisferio.



A) Latitud 30° S Longitud 50° O	E) Latitud <input type="text"/> <input type="text"/> Longitud <input type="text"/> <input type="text"/>
B) Latitud <input type="text"/> <input type="text"/> Longitud <input type="text"/> <input type="text"/>	F) Latitud <input type="text"/> <input type="text"/> Longitud <input type="text"/> <input type="text"/>
C) Latitud <input type="text"/> <input type="text"/> Longitud <input type="text"/> <input type="text"/>	G) Latitud <input type="text"/> <input type="text"/> Longitud <input type="text"/> <input type="text"/>
D) Latitud <input type="text"/> <input type="text"/> Longitud <input type="text"/> <input type="text"/>	H) Latitud <input type="text"/> <input type="text"/> Longitud <input type="text"/> <input type="text"/>