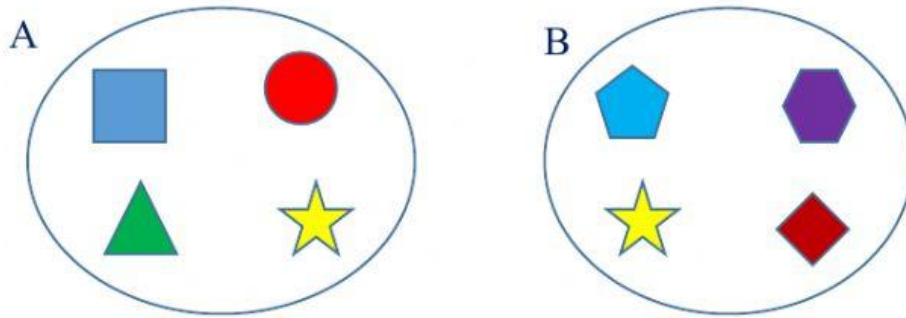


OPERACIONES CON CONJUNTOS

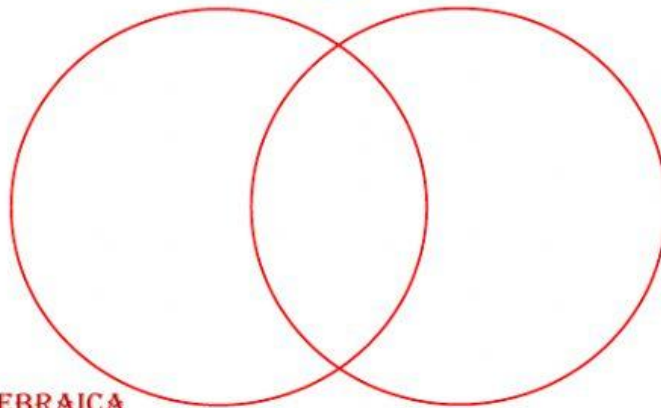
UNIÓN DE CONJUNTOS

Sean los conjuntos A y B realizar la unión entre conjuntos de manera gráfica y algebraica



FORMA GRÁFICA

AUB



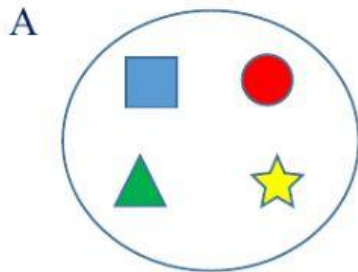
FORMA ALGEBRAICA

Escriba los nombre de las figuras

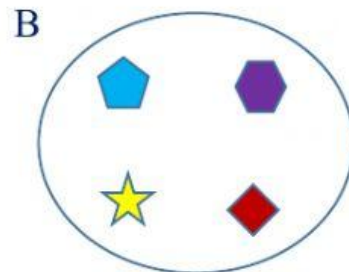
$A \cup B = \{ \quad , \quad , \quad , \quad , \quad , \quad , \quad , \quad \}$

INTERSECCIÓN DE CONJUNTOS

Sean los conjuntos A y B realizar la intersección entre conjuntos de manera gráfica y algebraica

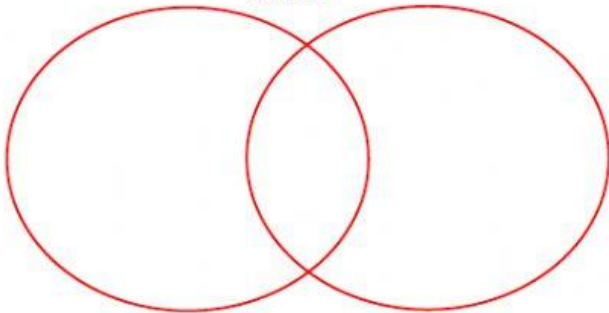


FORMA GRÁFICA



FORMA ALGEBRAICA

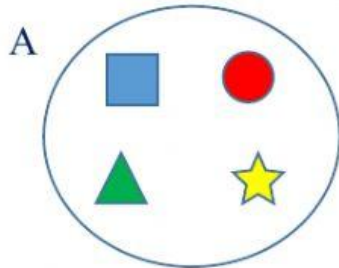
$A \cap B$



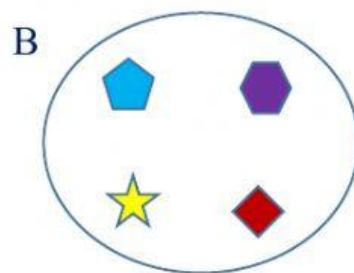
$A \cup B = \{ \quad \quad \quad \}$

DIFERENCIA DE CONJUNTOS

Sean los conjuntos A y B realizar la diferencia entre conjuntos de manera gráfica y algebraica

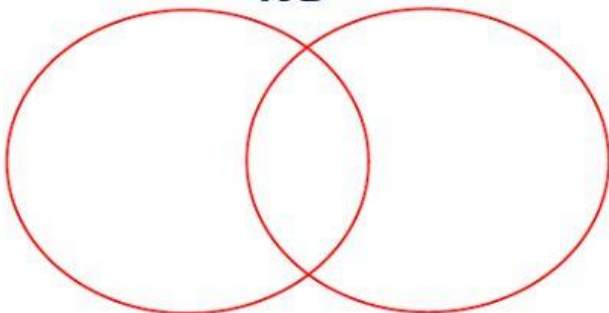


FORMA GRÁFICA



FORMA ALGEBRAICA

$A - B$



$A - B = \{ \quad , \quad , \quad \}$