

Задачи со мерки за зафатнина

1. Мерки за зафатнина се _____

2. $1\text{ L} = \underline{\hspace{2cm}}\text{ ml}$

3. Стави го потребниот знак $>$ $=$ $<$

$5\text{ L} \bigcirc 4\text{ L}$ $3000\text{ ml} \bigcirc 3\text{ L}$ $1\text{ L} \bigcirc 800\text{ ml}$

$200\text{ ml} \bigcirc 500\text{ ml}$ $6\text{ L} \bigcirc 4000\text{ ml}$ $1500\text{ ml} \bigcirc 2\text{ l}$

4. Процени!



- 50 mL
- 500 mL
- 5 L

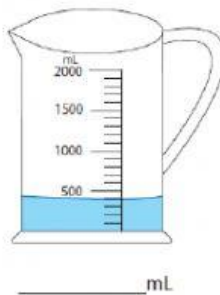


- 3 L
- 30 mL
- 300 mL

5. a)



b)

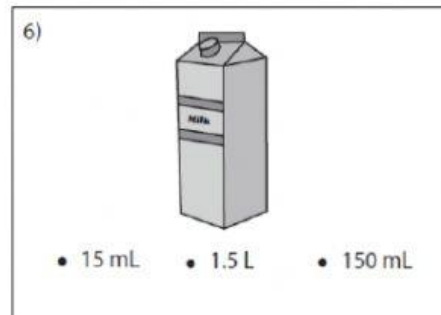
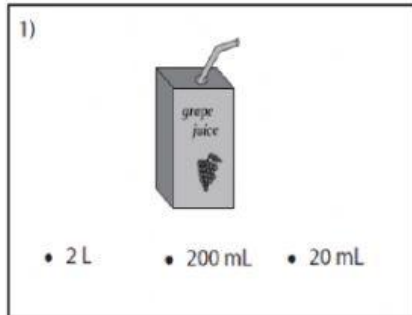


6. Мајката купила 1L млеко. Децата за појадок испиле 500 ml млеко.
Колку млеко останало?

Решение:

Одговор: _____

1. Инструмент за мерење зафатнина е _____
2. Мерки за мерење зафатнина се 1 _____ и 1 _____
3. 1 _____ = 1000 _____
4. Прочени!

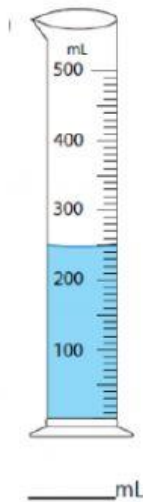


- повеќе од 1 l
 помалку од 1 l



- повеќе од 5 l
 помалку од 5 l

5. Измери!



- знае мерки за волумен
- мери волумен

- проценува волумен
- решава текстуални задачи со волумен