






EJERCICIOS DE OPERACIONES COMBINADAS

1. Resuelve las siguientes operaciones combinadas en tu cuaderno y arrastra el resultado.

$12 \times (7+13)$		<input type="text"/>
$4 - 3 + (24 \times 7)$		<input type="text"/>
$(7 \times 8) \times 15$		<input type="text"/>
$6 + (6 \times 44)$		<input type="text"/>
$66 - 38 - (2 \times 9)$		<input type="text"/>

270

10

840

240

169

2. Resuelve las siguientes operaciones combinadas paso a paso.

$$57 - 29 + (4 \times 75) = \quad - \quad + \quad = \quad + \quad =$$

$$7 \times 14 - (6 \times 5) = \quad \times \quad - \quad = \quad - \quad =$$

$$3 \times 19 - 55 + 77 = \quad - \quad + \quad =$$

$$271 - 7 \times (5 + 19) = \quad - \quad \times \quad = \quad - \quad =$$

$$729 - (5 \times 32 + 162) = \quad - (\quad + \quad) = \quad - \quad =$$