



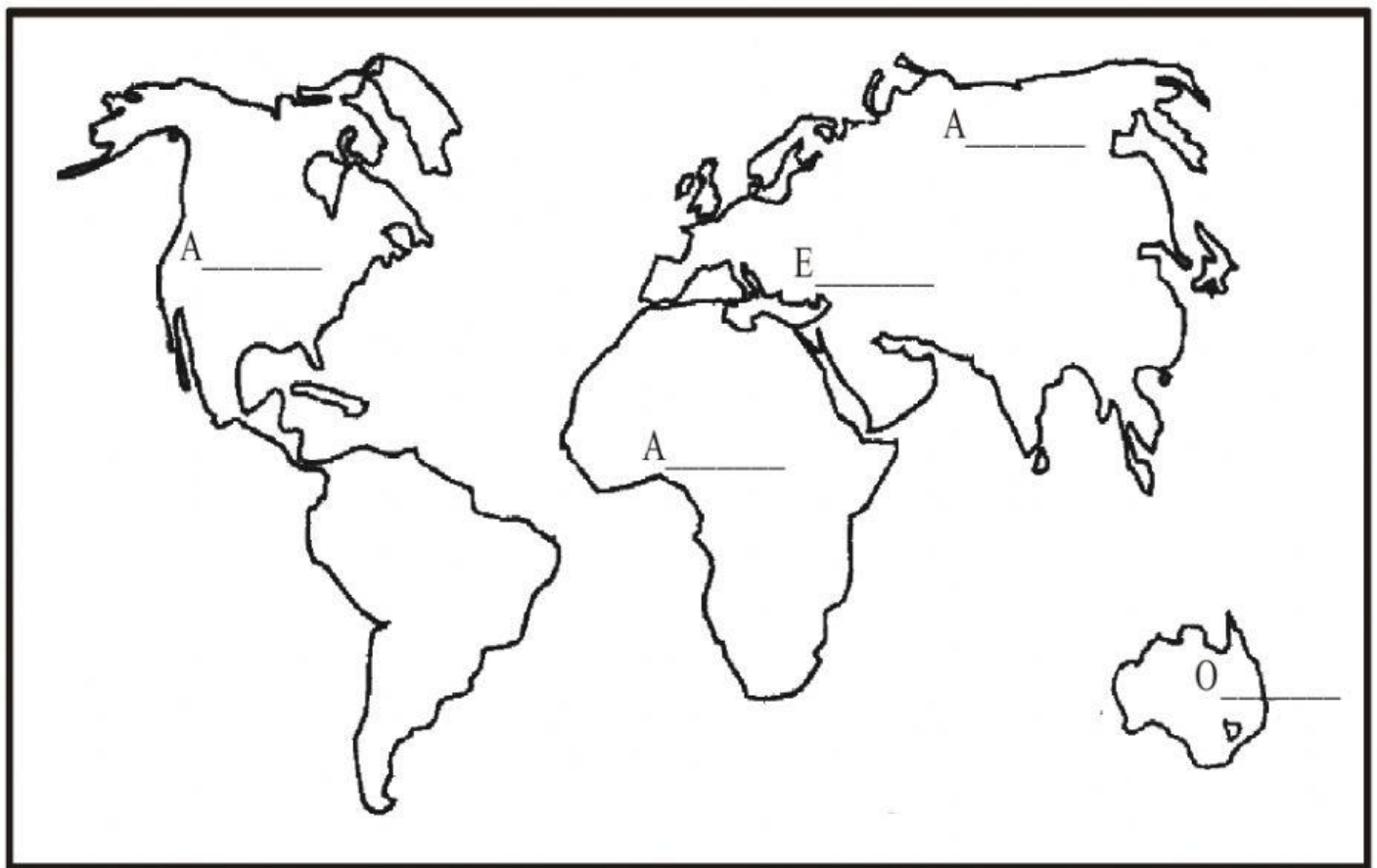
COMPROBAMOS NUESTROS EN
PERSONAL SOCIAL

II UNIDAD

Nombre y Apellidos:

Grado: 2º

I.-INSTRUCCIÓN: Arrastra el nombre de los continentes donde corresponde



AMERICA

EUROPA

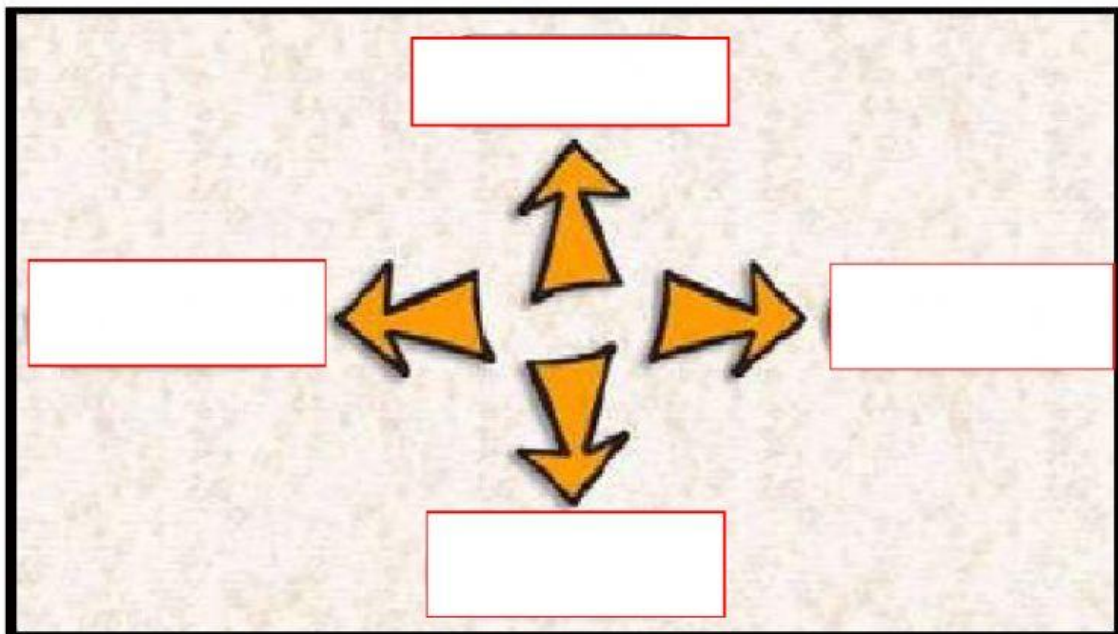
ASIA

OCEANIA

AFRICA



II.-INSTRUCCIÓN: Escribe el nombre de los puntos cardinales según corresponda



II.-INSTRUCCIÓN: Escribe el número según corresponda:

1. Región donde se puede apreciar hermosos nevados.
2. Región que se ubica cerca del mar.
3. Región de abundante vegetación.
4. Región con gran riqueza de especies marinas.

Mar Peruano

Costa

Sierra

Selva

III.-INSTRUCCIÓN: Coloca "V" verdadero o "F" falso según corresponda:

a) El mar peruano es una parte del Océano Pacífico.

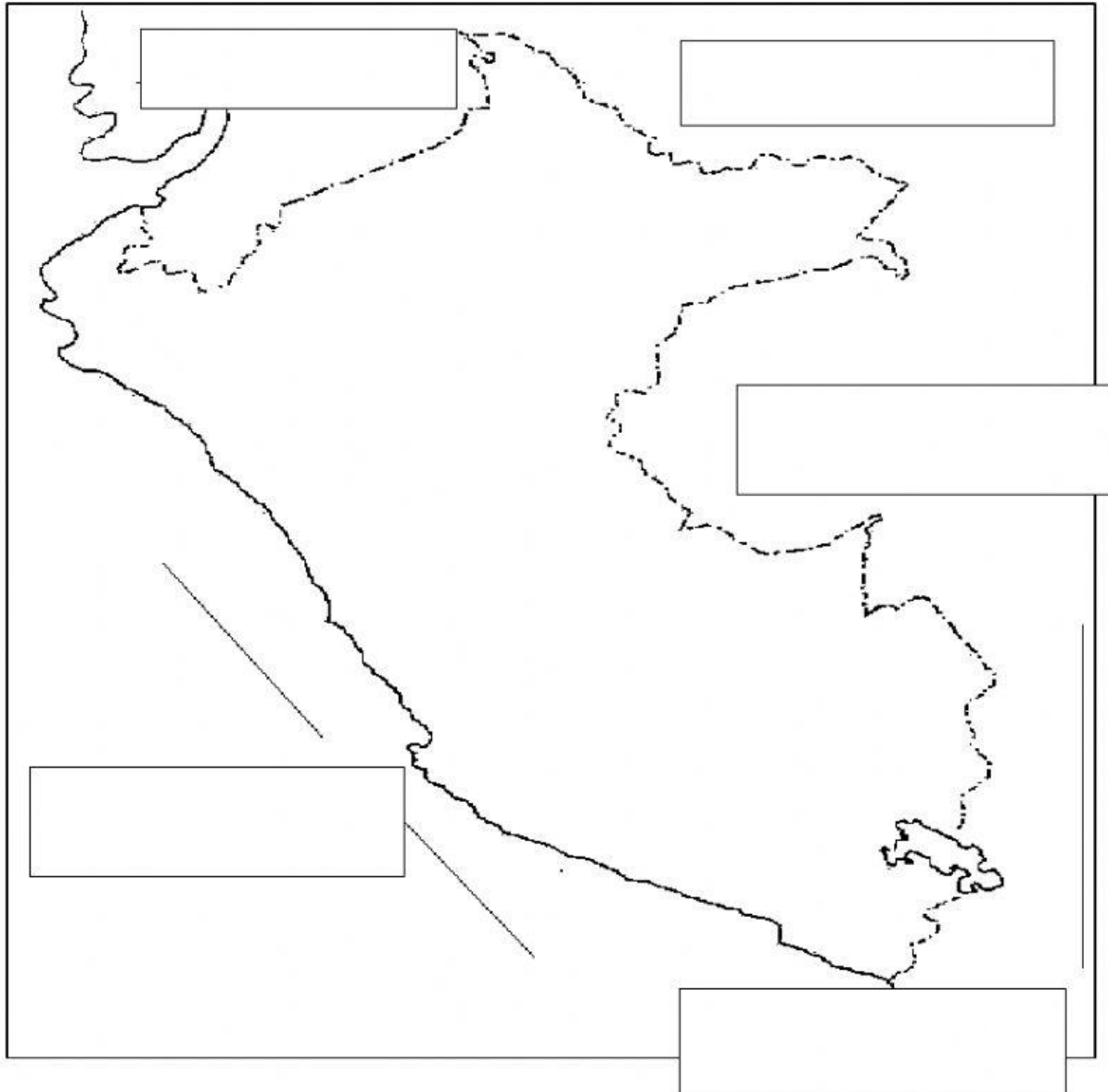
b) En los desiertos hay abundante agua.

c) En todo valle hay un río.

d) Tumbes y la Libertad no son ciudades de la Costa.



IV.-INSTRUCCIÓN: Arrastra los nombres de los países que limitan con el Perú según corresponde.



OCEANO PACIFICO

COLOMBIA

CHILE

ECUADOR

BRASIL Y BOLIBIA



V.-INSTRUCCIÓN: Marca la respuesta correcta:

- 1) ¿De qué continente vino el hombre a América?
 - a) África
 - b) Asia
 - c) Europa
- 2) ¿De qué vivían aquellos hombres?
 - a) De la agricultura y la pesca
 - b) Del comercio y caza
 - c) De la caza y la pesca
- 3) Desarrollaron avances culturales como:
 - a) La lectura y escritura
 - b) La metalurgia, textilería y cerámica
 - c) La pintura, la cerámica, el teatro.

VI.-INSTRUCCIÓN: Escribe V o F según corresponda:

- * El hombre viajó de América a Asia.
()
- * El mamut y el tigre diente de sable son originarios de América.
()
- * Los hombres que llegaron al Perú andaban en pequeños grupos llamados bandas
()
- * El hombre que llegó a América era nómade
()