

Repasamos la Decena


Nombre:

Luego de contar, coloca las decenas y unidades en el tablero posicional.

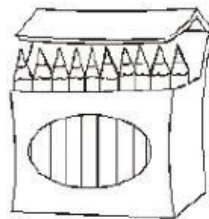
D	U




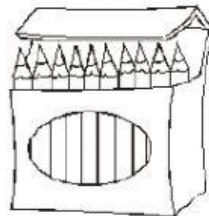
D	U



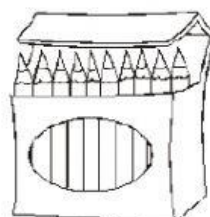
D	U



D	U

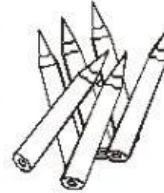



D	U

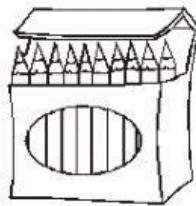


1. Observa y cuenta, luego coloca las decenas y unidades en el tablero posicional.

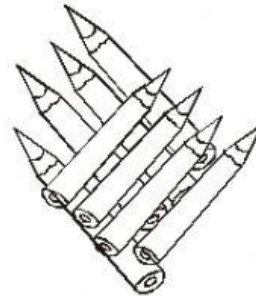
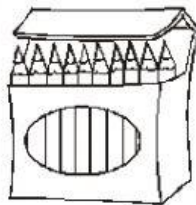
D	U




D	U




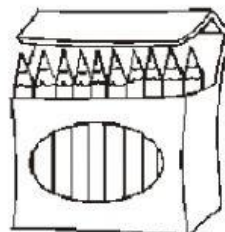
D	U



D	U



D	U



¡A comprar!

- * Observa el precio de las golosinas que hay en la tienda y ayuda a cada niño a comprar. Luego ayúdalos a sacar la cuenta.



S/.15



S/.2



D	U

¿Cuánto gastó? _____



S/.10



S/. 6



D	U

¿Cuánto gastó? _____



S/.1



S/.17



D	U

¿Cuánto gastó? _____



S/.4



S/.12



D	U

¿Cuánto gastó? _____

Problemas



¿Cuántos pescados tienen Ana y Pepe juntos?

D	U	+

Juntos tienen ____ pescados.



¿Cuántos cangrejos tienen Lalo y Aida juntos?

D	U	+

Juntos tienen ____ cangrejos.