



# LICEO COOPERATIVO CAMPESTRE

Luz, integridad y sabiduría

Asignatura: Geometría

Grado: PRIMERO

Periodo: I

NOTA

VALORACIONES I TRIMESTRE


Estudiante:


Docente: YENNY CARVAJAL


Fecha:

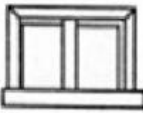
## 1. Observo la imagen y completo las oraciones




La  está  la cama.

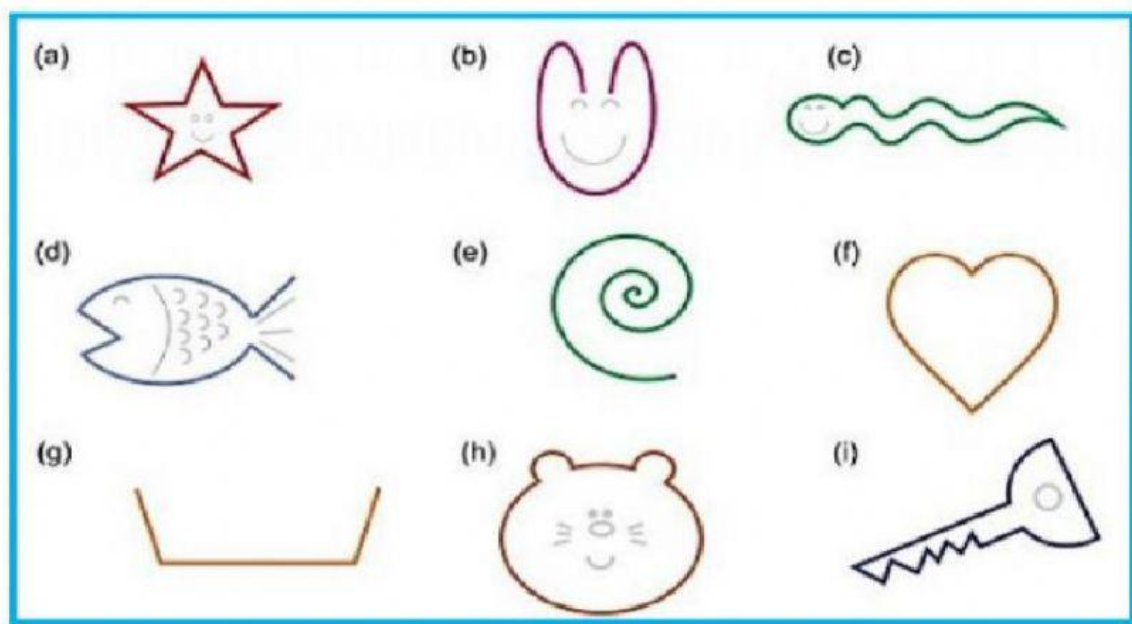
El  está  la cama.

El  está  la niña.

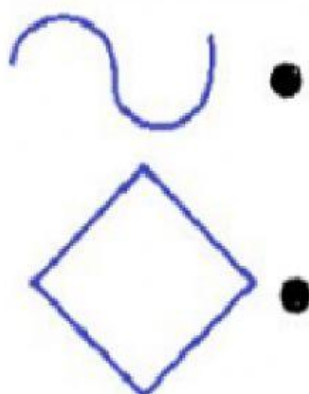
La  está  del gato.

El  está  la niña.

## 2. Selecciono las líneas cerradas



## 3. Uno cada línea según corresponda




Recta abierta

Curva abierta

Recta cerrada

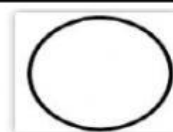
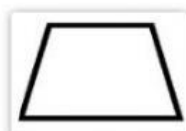
Curva cerrada



/1.0

## 4. Ubico cada línea en el cuadro correcto

Líneas cerradas	Líneas abiertas
<div data-bbox="252 1599 427 1747" style="display: inline-block; border: 1px solid black; width: 100px; height: 60px; margin-right: 20px;"></div> <div data-bbox="507 1599 683 1747" style="display: inline-block; border: 1px solid black; width: 100px; height: 60px;"></div>	<div data-bbox="794 1599 970 1747" style="display: inline-block; border: 1px solid black; width: 100px; height: 60px; margin-right: 20px;"></div> <div data-bbox="1050 1599 1225 1747" style="display: inline-block; border: 1px solid black; width: 100px; height: 60px;"></div>



/1.0