



CUADERNILLO DE ACTIVIDADES

1° AÑO

INGRESO Y NIVELACION

HISTORIA

PRIMERA PARTE

Nombre y Apellido

1- NOS UBICAMOS EN EL TIEMPO Y ESPACIO

Cada vez que trabajamos con un hecho histórico, es fundamental ubicarnos y ubicar este en un tiempo y espacio determinado (es decir, cuando sucedió y donde)

*Para trabajar sobre este contenido se presentan las siguientes actividades:

a-Ubicación Temporal

*Escribe los números romanos del 1 al 21

*¿Qué significa cada una de las siguientes unidades de tiempo? Escribe al lado

1 Milenio	½ Milenio
1 Década	1 Década y media
1 Siglo	½ Siglo
¼ Siglo	1 Lustró

- Resuelve

Coloca al lado de cada año a qué siglo pertenece:

*¿A qué siglos corresponden los siguientes años?

476	1789
1453	276
789	2000
504	1492
1999	1099

*Completa las Edades de la Historia

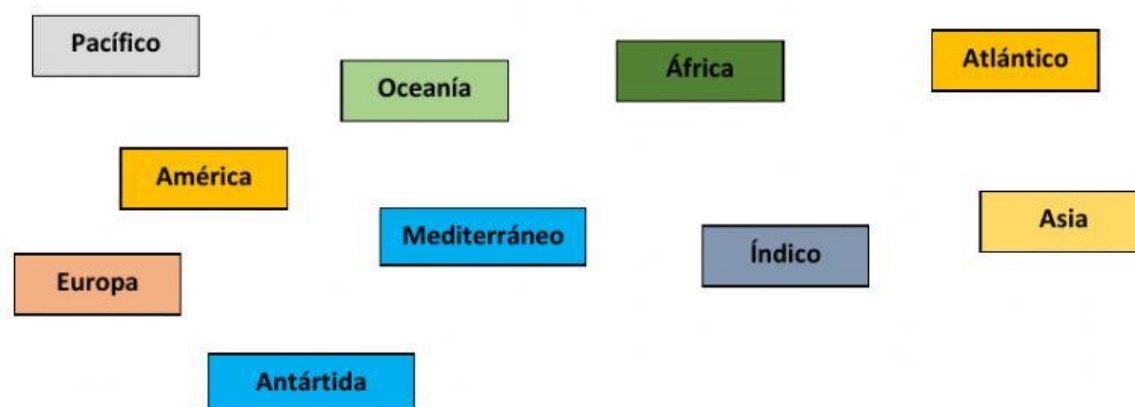
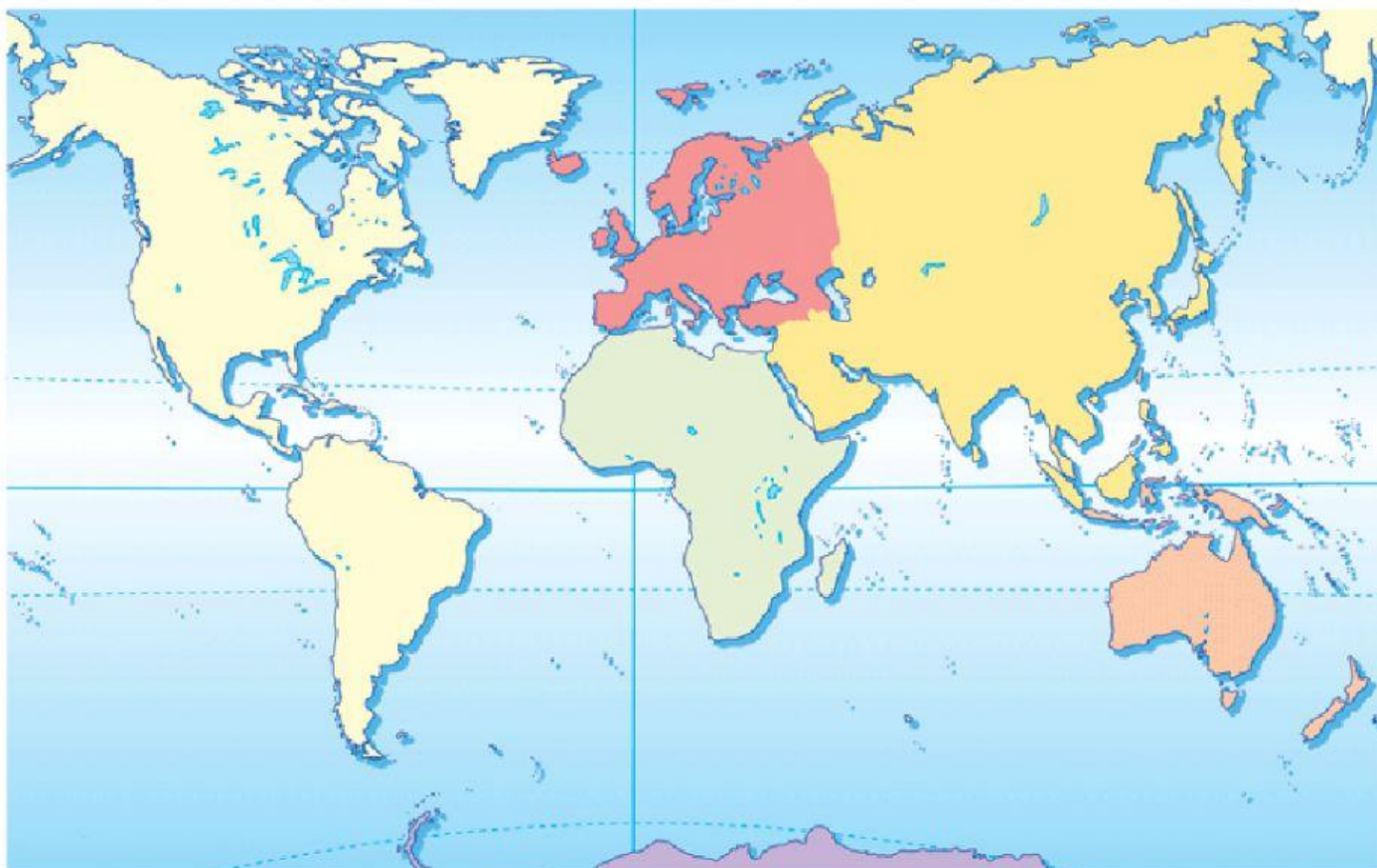
--	--	--	--

B- Ubicación Espacial

*Es momento de trabajar con el espacio, para ello necesitas de un mapa planisferio **político**.

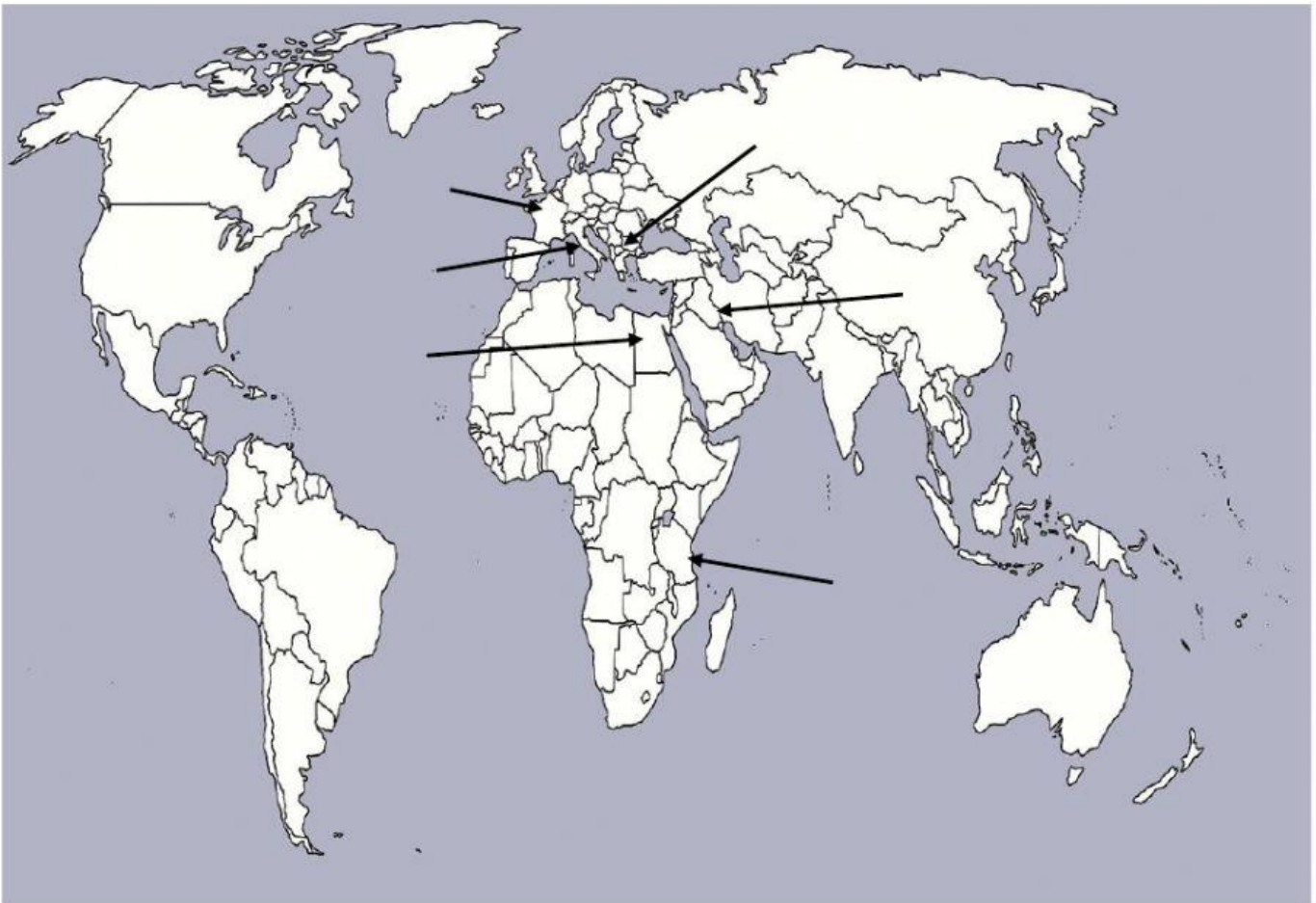
*En el mapa:

- Coloca el nombre a los continentes.
- Coloca el nombre a los Océanos y Mares que conoces.



- En el mismo mapa pinta con un color distinto cada uno de los lugares que se mencionan en cada frase (**marcados con negrita**)

- Según estudios arqueológicos, los primeros hombres vivieron al sur de África, en **Tanzania**
- Unas de las primeras civilizaciones hidráulicas de la antigüedad fueron **Egipto y Mesopotamia (Hoy Irak)**
- La democracia (como forma de gobierno) nació en el siglo V a.c. en **Grecia**
- El imperio romano de occidente cayó por la invasión de los pueblos bárbaros a **Italia**, especialmente Roma.
- El Feudalismo, en la Edad media, se dio especialmente en el reino de los francos (**Francia**)



*Piensa y responde:

-¿En qué provincia vives?

-Esta provincia ¿En qué país se encuentra?

-Ese país ¿En qué continente está ubicado?

-Ese continente ¿En qué hemisferio está?