























1. La tabella rappresenta gli sport preferiti dagli alunni e dalle alunne di una classe.

Nuoto	     
Calcio	      
Basket	   
Pallavolo	    

Quanti sono, in tutto, gli alunni maschi di quella classe?

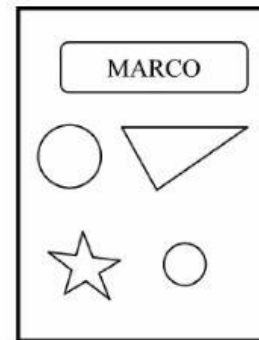
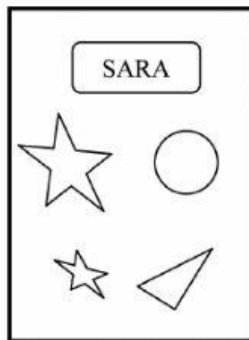

- ☐ A. 7
- ☐ B. 11
- ☐ C. 22

2. Quale numero corrisponde a 1 decina e 3 unità?

- ☐ A. 31
- ☐ B. 30
- ☐ C. 13



3. Elena, Sara e Marco hanno messo degli adesivi sui loro quaderni.



Quale bambino ha incollato due cerchi, un triangolo ed una stellina?

- ☐ A. Marco.
- ☐ B. Sara.
- ☐ C. Elena.

4. Quale operazione è stata eseguita?

$$22 ? 2 = 20$$

- ☐ A. Addizione.
- ☐ B. Sottrazione.
- ☐ C. Somma.




5. Michele pensa un numero, ci toglie 9 e ottiene 7. Chi indovina il numero pensato da Michele?

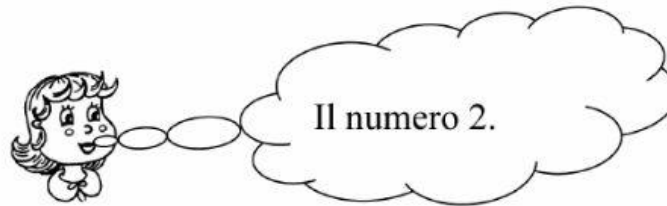
☐ A.



☐ B.



☐ C.



-
6. Quale numero manca?

$$? + 9 = 21$$

Metti una crocetta nel quadratino corrispondente al numero che ti sembra giusto.

☐ A. 12

☐ B. 19

☐ C. 30






7. Quale numero corrisponde a 2 decine?

☐ A. 2

☐ B. 12

☐ C. 20

8. Chi si trova nella casella: 2, E ?

E					
D					
C					
B					
A					
	1	2	3	4	5

☐ A. La chiocciola.

☐ B. La papera.

☐ C. Il topolino.



9. Bisogna mettere in ordine crescente (cioè dal più piccolo al più grande) i seguenti numeri:

17 6 12 9 21

Qual è l'ordine giusto?

- ☐ A. 21 17 12 9 6
- ☐ B. 6 9 21 17 12
- ☐ C. 6 9 12 17 21

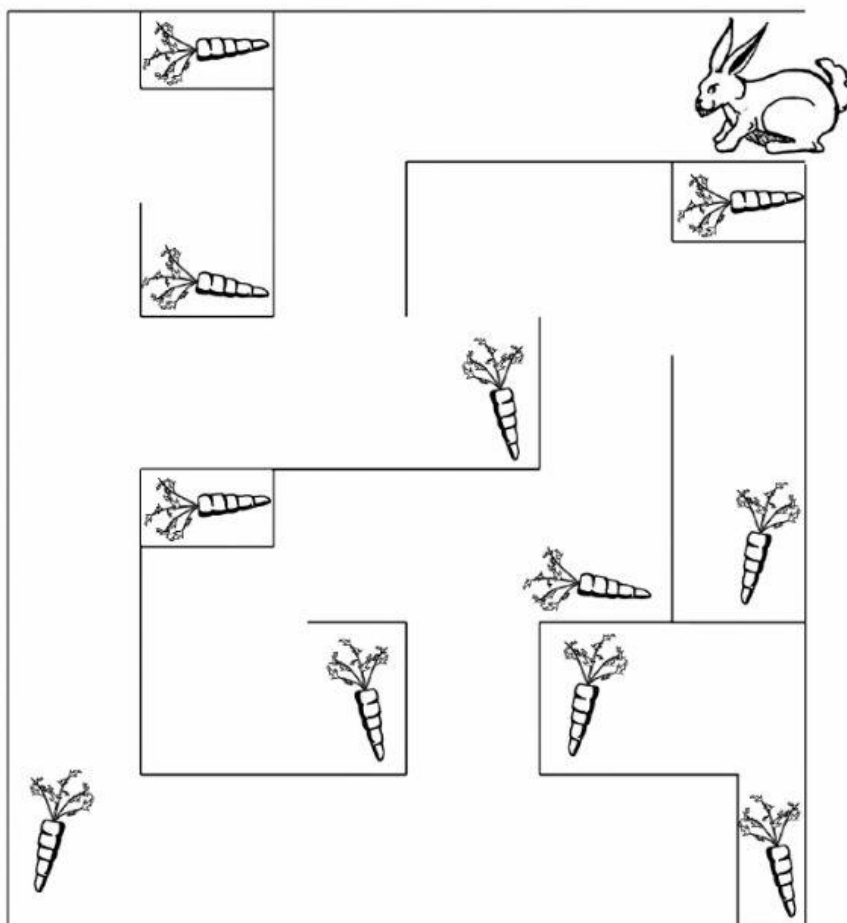
-
10. Qual è la forma del cappello della fatina?



- ☐ A. Cono.
- ☐ B. Cilindro.
- ☐ C. Cubo.



11. Quante carote può prendere il coniglietto?



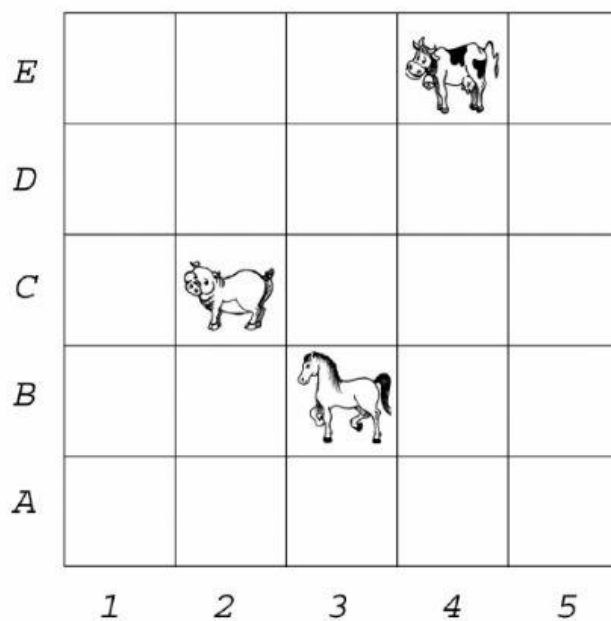
☐ A. 11

☐ B. 6

☐ C. 5



12. In quale casella si trova il cavallo?



☐ A. 2, C

☐ B. 4, E

☐ C. 3, B

13. Quale tra le operazioni seguenti ha lo stesso risultato di $7 + 7$?

☐ A. $6 + 6$


☐ B. $9 + 6$

☐ C. $15 - 1$

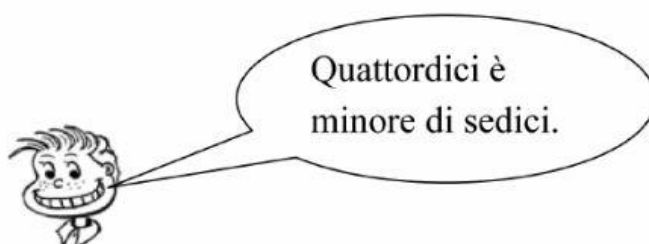


14. Chi dice la verità?

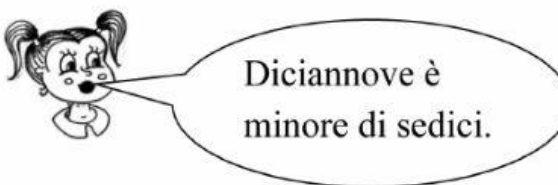
☐ A.



☐ B.



☐ C.



Nicola \longrightarrow ○ ○ ○ ○ ○ ○ ○ ○ ○

Quante pedine ha Matilde in più di Nicola?

- ☐ A. 3
- ☐ B. 4
- ☐ C. 5

16. Quale operazione è stata eseguita?

$6 \times 9 = 15$

- ☐ A. Addizione.
- ☐ B. Sottrazione.
- ☐ C. Differenza.