

Ejercicio


Seres vivos y seres inertes

Valor: 15 pts



1. Observa la imagen y selecciona la respuesta correcta.


5



Ser vivo



Ser inerte



Ser vivo



Ser inerte



Ser vivo



Ser inerte



Ser vivo



Ser inerte



Ser vivo



Ser inerte



Ser vivo




Ser inerte




2. Observa la imagen y arrastra al lugar correcto.




Nace




Crece



Se reproduce



Muere



2. Observa la imagen y selecciona lo que necesitan los seres vivos para vivir.

