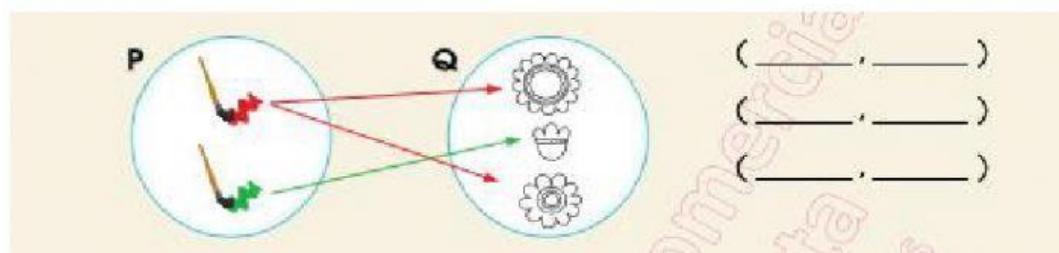














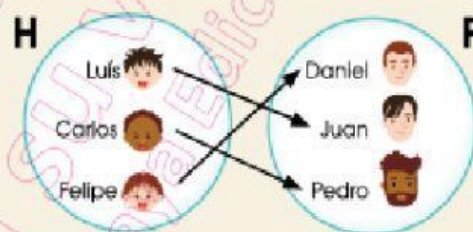
1. Arrastras los pares ordenados que completa la relación del conjunto P,Q



 , 	 , 	 , 
 , 	 , 	 , 

2. **Completa** la tabla de doble entrada que corresponde al diagrama sagital de los conjuntos H y P.

H \ P			



Trabajo colaborativo

3. En parejas, **completen** los elementos que faltan en el conjunto M, **adicionen** el valor que se indica y **representen** los pares que se han formado en un diagrama cartesiano.

