
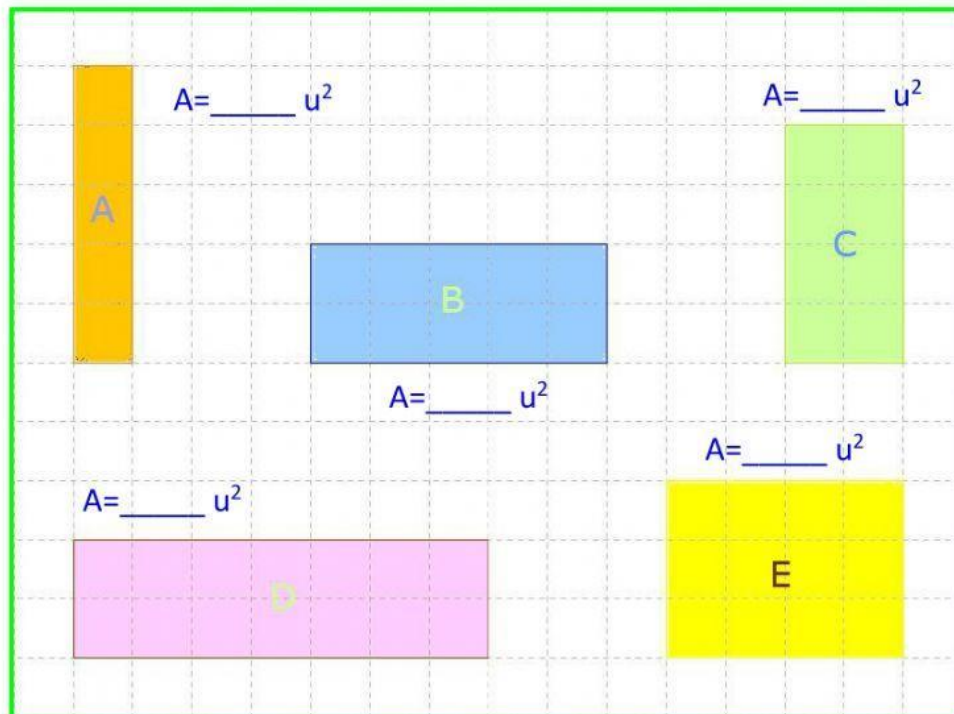


## Evaluación formativa 6: "Área de figuras 2D 5º"

**ACTIVIDAD 1:** Determine el área (A) de las siguientes figuras 2D. Recuerda que cada  = 1 unidad cuadrada ( $u^2$ )



**ACTIVIDAD 2:** Calcula el área de cada figura 2D.

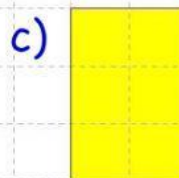



6 cm  
4 cm  
 $A = \underline{\hspace{1cm}} \text{ cm}^2$



15 cm  
2 cm  
 $A = \underline{\hspace{1cm}} \text{ cm}^2$

**ACTIVIDAD 3:** Sin calcular, determine cuál rectángulo tiene mayor área.



¡ÉXITO!