



NOME: _____

TURMA: _____



MATEMÁTICA - LOCALIZAÇÃO

1º) No diagrama abaixo, a localização de cada objeto é identificada por uma letra e um número. Por exemplo, a casa está localizada em B,2.

4				
3				
2				
1				
	A	B	C	D

De acordo com a figura, o carro está localizado em

(A) C,1

(B) C,4

(C) B,4

(D) A,4

2º) O barco na figura está localizado na posição X.

6							
5							
4			X				
3							
2							
1							
	A	B	C	D	E	F	G



Que posição é essa?



























(A) D 4

(B) D 5

(C) E 4

(D) E 5

3º) Observe o parque de diversão representado abaixo: Assinale a alternativa que mostra a localização do carrossel.

	1	2	3	4	5	6	7
M							
N							
P							
Q							
R							

(A) N 2

(B) P 3

(C) N 3

(D) P 2

4º) Lucas e Marcos adoram brincar de caça ao tesouro.



Eles querem descobrir a localização do tesouro marcado neste mapa com um X. Marque a única opção que representa a localização correta a partir do ponto de vista do pirata:

(A) o tesouro está acima do pirata.

(B) o tesouro está a direita do pirata.

(C) o tesouro está na frente do pirata.

(D) o tesouro está entre o pirata e a torre.