



EXAMEN BIMESTRAL DE ARITMÉTICA
INSTITUCIÓN EDUCATIVA PRIVADA
"SEMILLITAS DE VIDA"



PROFESORA: AILY MELISSA GUTARRA BONIFAZ

1. LOS CONJUNTOS. Arrastra los elementos en su ubicación correcta.

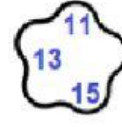
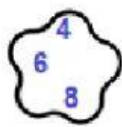
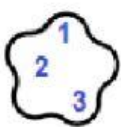
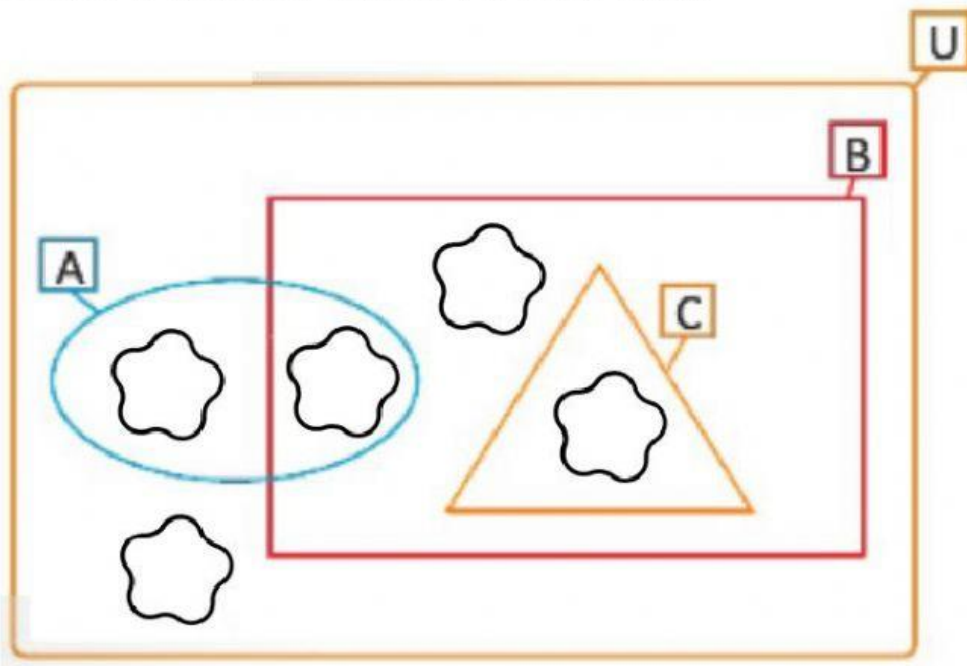
Si:

$$A = \{4; 6; 8; 10; 12; 14\}$$

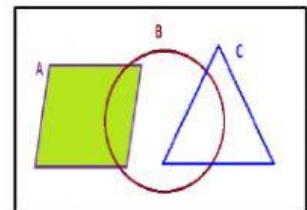
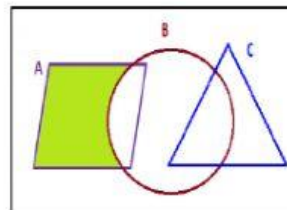
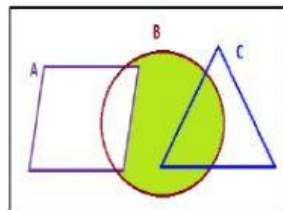
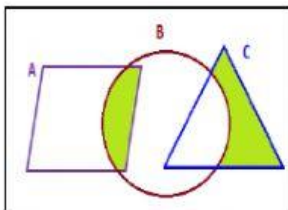
$$B = \{1; 2; 3; 4; 5; 6; 7; 8; 9\}$$

$$C = \{1; 2; 3\}$$

$$U = \{1; 2; 3; 4; 5; 6; 7; 8; 9; 10; 11; 12; 13; 14; 15\}$$

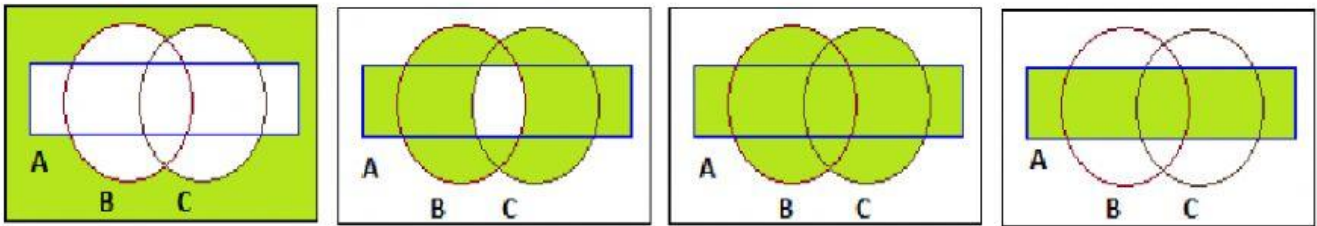


2. DIFERENCIA DE CONJUNTOS. Pula el grafico que represente (A - B)

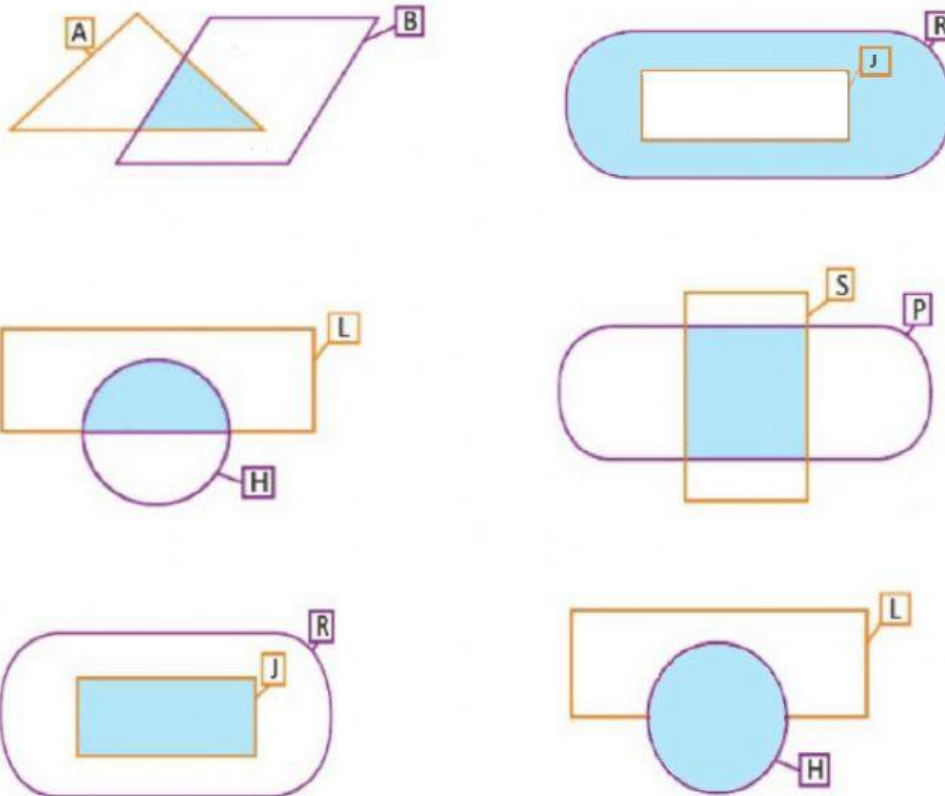


POFESORA: AILY MELISSA GUTARRA BONIFAZ

3. UNIÓN DE CONJUNTOS. Pulsa el grafico que represente (A U B U C)

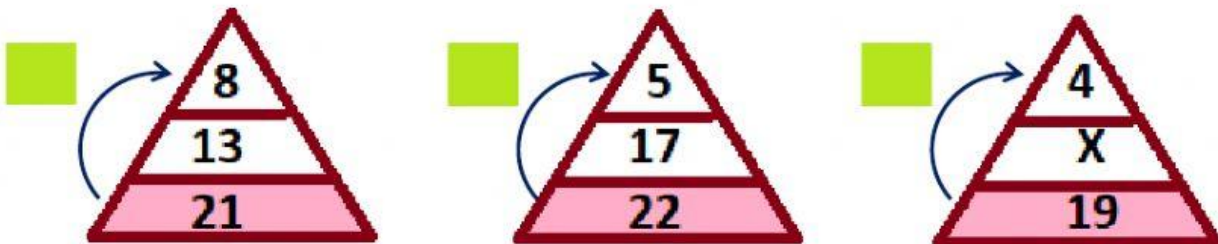


4. INTERSECCIÓN DE CONJUNTOS. Pulsa los gráficos que representan la intersección.



5. Halla el valor de "X" y escribe la operación en el recuadro :

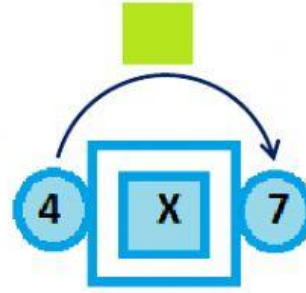
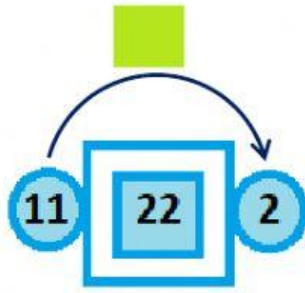
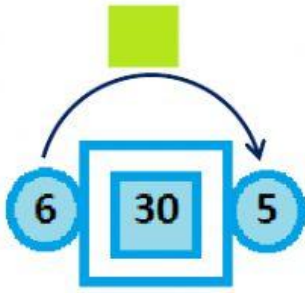
Multiplicación (x), división (:), SUMA (+), RESTA (-)



Respuesta: -----

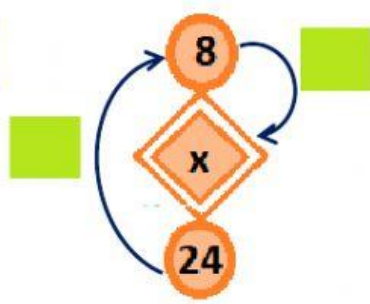
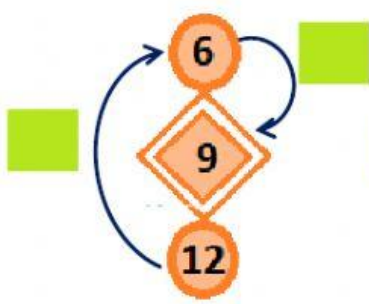
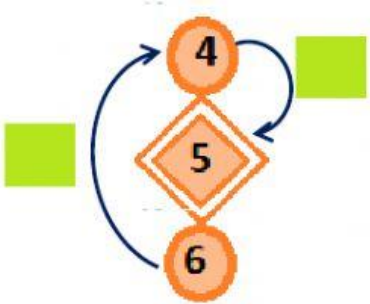
POFESORA: AILY MELISSA GUTARRA BONIFAZ

6. HALLA EL VALOR DE "X" Y ESCRIBE LA OPERACIÓN EN EL RECUADRO :
 Multiplicación (x), división (:), SUMA (+), RESTA (-)



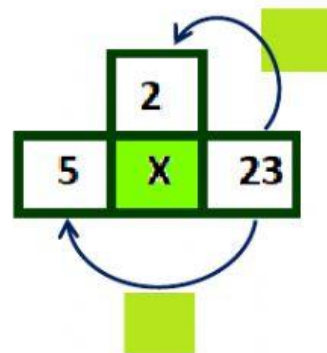
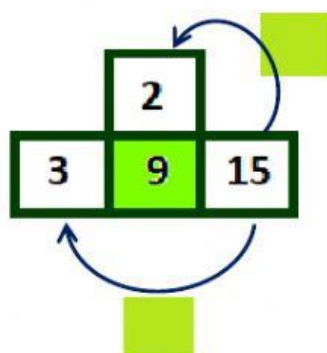
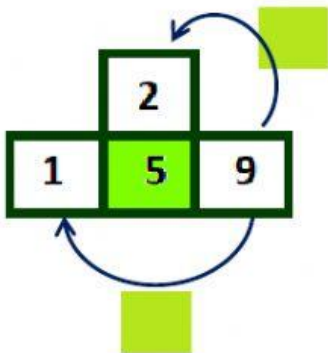
Respuesta: _____

7. HALLA EL VALOR DE "X" Y ESCRIBE LA OPERACIÓN EN EL RECUADRO :
 Multiplicación (x), división (:), SUMA (+), RESTA (-)



Respuesta: _____

8. HALLA EL VALOR DE "X" Y ESCRIBE LA OPERACIÓN EN EL RECUADRO :
 Multiplicación (x), división (:), SUMA (+), RESTA (-)



Respuesta: _____

POFESORA: AILY MELISSA GUTARRA BONIFAZ