

**MATEMATIKA**

**LKPD**

**LEMBAR KERJA PESERTA DIDIK  
MATERI PENGUKURAN SUDUT  
KELAS IV**

DEWA AYU ANOM SUARNINGSIH  
KELAS : 004/D  
SD NEGERI 18 DANGIN PURI

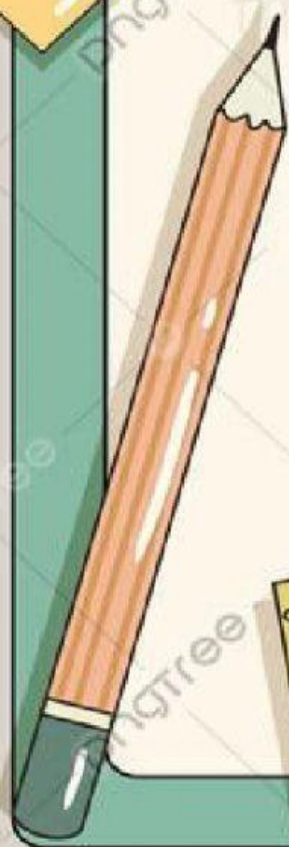


NAMA :

KELAS :

NOMER ABSEN:

SD NEGERI 18 DANGIN PURI





### TUJUAN PEMBELAJARAN

1. Setelah membaca petunjuk pada LKPD, siswa mampu menganalisis jenis-jenis sudut pada bangun datar sesuai satuan baku dengan tepat.
2. Setelah membaca petunjuk pada LKPD, siswa mampu menentukan ukuran sudut dalam satuan baku dengan menggunakan busur derajat secara mandiri.
3. Setelah menyimak video pada LKPD, siswa mampu menggambar sudut dalam satuan baku menggunakan busur derajat yang dilakukan dengan di videkan secara tepat.
4. Setelah menyimak video pada LKPD, siswa mampu mengukur sudut dalam satuan baku menggunakan busur derajat yang dilakukan dengan di videkan secara tepat.

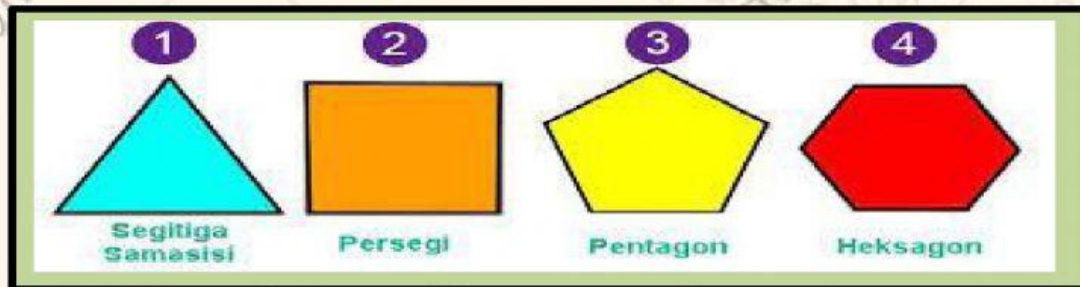
### PETUNJUK PENGGUNAAN LKPD

LKPD berisi gambar-gambar yang juga dilengkapi dengan soal-soal interaktif.

Langkah-langkah kegiatan:

1. Lengkapi nama, kelas, dan nomer absen dengan lengkap.
2. Amati gambar sebelum menjawab pertanyaan yang ada pada LKPD.
3. Jawab pada kolom yang telah disediakan.
4. Buatlah simpulan pada kolom simpulan.

### A. PERHATIKAN GAMBAR

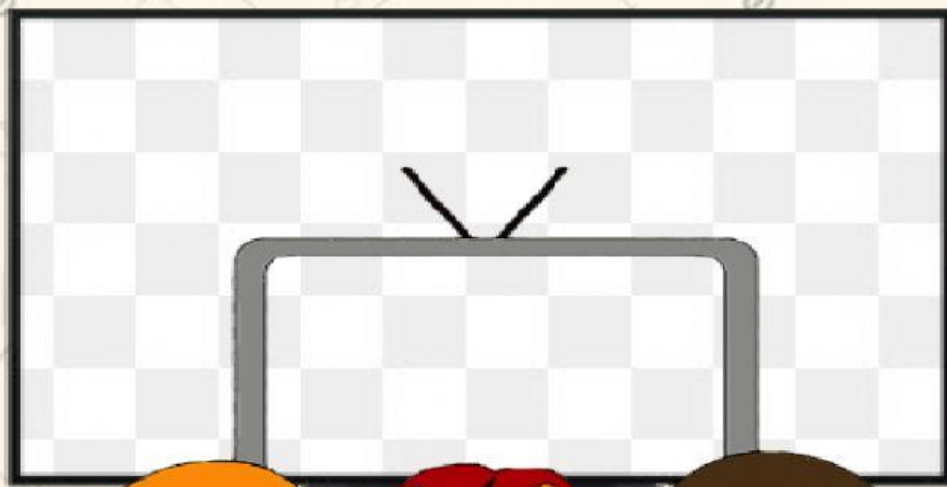


B. Setelah mengamati gambar, analisislah gambar tersebut berdasarkan jenis-jenis sudutnya, agar kamu bisa mengisi tabel berikut.

GAMBAR	BANYAK SISI	BESAR SUDUT PADA SEGI BANYAK	JENIS SUDUT
			
			
			
			



C. AYO SIMAK VIDEO BERIKUT!



Setelah kalian menyimak video di atas, cobalah menggambar sudut kemudian ukur sudut yang kalian buat. Mintalah bantuan kepada orang tua atau kakak untuk memvideokan kegiatan yang kalian lakukan, yaitu menggambar dan mengukur sudut.

Video hasil praktik kalian kumpulkan lewat google classroom sebelum melakukan zoom kedua.

#### D. SIMPULAN

Simpulkan hasil kegiatan yang kalian lakukan pada kolom di bawah ini!

.....

.....

.....

.....

.....

.....

.....

.....

.....