




ESCUELA DE EDUCACIÓN BÁSICA PARTICULAR "EDUARD SPRANGER"

LECCIÓN DE MATEMÁTICA – SÉPTIMO DE BÁSICA

1. Calcula los siguientes porcentajes.

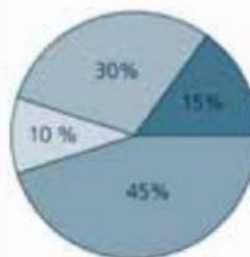
a.	37 % de 354	=	<input type="text"/>	c.	97 % de 647	=	<input type="text"/>
b.	19 % de 983	=	<input type="text"/>	d.	53 % de 486	=	<input type="text"/>

2. Asocia cada porcentaje con su valor.



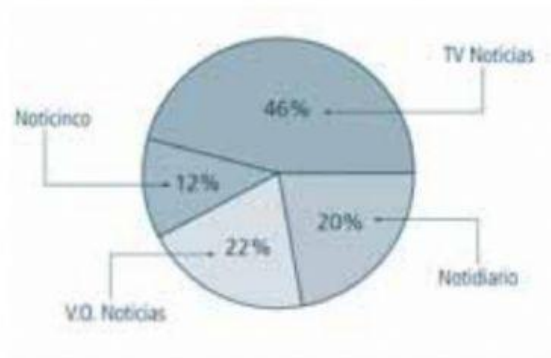
3. Escribe en el diagrama circular el tipo de artesanía de acuerdo con el porcentaje que representa.

Artesanías elaboradas en un cantón	
Tipo de artesanía	Porcentaje
Ollas de barro	15%
Canastas de palma	30%
Arcos	10%
Tambores	45%



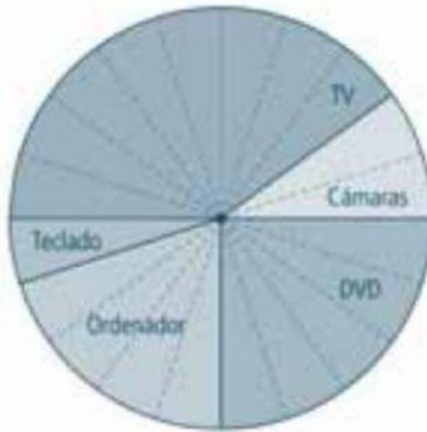
<input type="checkbox"/>	_____
<input type="checkbox"/>	_____
<input type="checkbox"/>	_____
<input type="checkbox"/>	_____

4. Observa el diagrama y contesta las preguntas.



- Cuál es el noticiero de mayor preferencia?
- ¿Cuál es el noticiero visto por el menor número de televidentes?
- Si la encuesta fue aplicada a 100 personas, ¿cuántas prefieren "Notidario"?
- ¿Cuántas personas prefieren "V. O. Noticias"?

5. Resuelve con base en la información.



- Si el círculo representa el 100%, ¿qué porcentaje de ventas le corresponde a los siguientes electrodomésticos?

TV

DVD

ORDENADOR

TECLADO