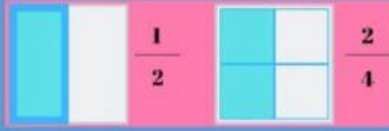


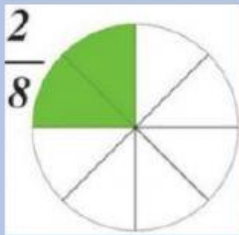
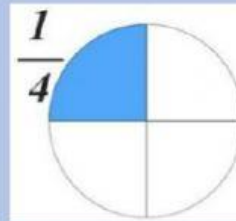


# Fracciones equivalentes



Son aquellas **fracciones** que representan una misma cantidad, aunque el numerador y el denominador sean diferentes.

1.- Uno parejas de fracciones equivalentes.



2.- Señalo si las siguientes fracciones son o no son equivalentes, completando los resultados de los múltiplos cruzados, escribo en la barra: "Son equivalentes" - "No son equivalentes".

$$\frac{4}{8} \text{ y } \frac{3}{6}$$


---

$$\frac{3}{5} \text{ y } \frac{6}{10}$$


---

$$\frac{9}{6} \text{ y } \frac{7}{9}$$


---

$$\frac{3}{10} \text{ y } \frac{2}{5}$$


---