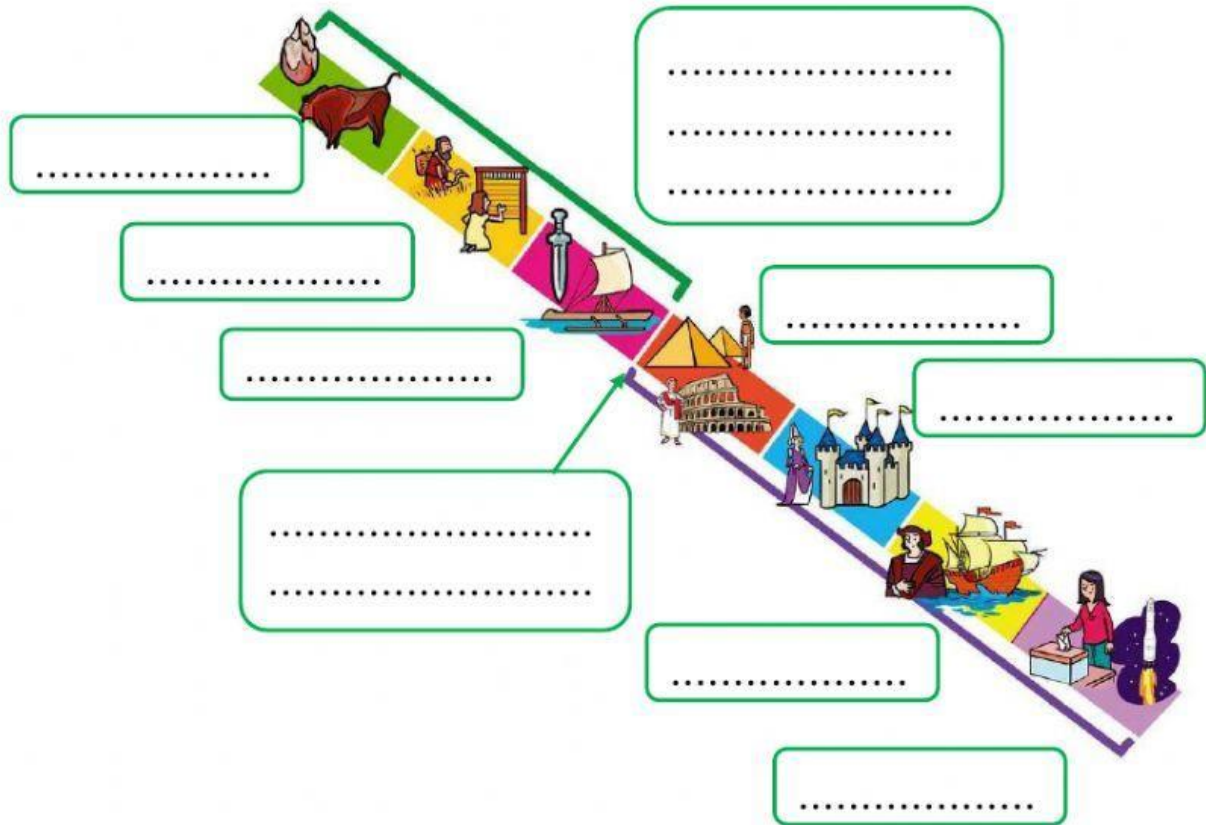


Nombre: Fecha: Curso:

1. Escribe el nombre de cada etapa histórica.



2. Explica qué número de años representa cada unidad de medida.




Milenio:

Siglo:

Década:

Lustro:

3. Relaciona cada ilustración con la etapa de la historia de la humanidad a la que pertenece.



4. Completa con las palabras que faltan.

- A. Los primeros homínidos eran, es decir, viajaban de un sitio a otro para hallar manadas de que cazar, que recolectar o donde pescar.
- B. Para guardar y cocinar alimentos se modelaron vasijas de Para fabricarlas se usaron la rueda y el molino.
- C. A finales de la Prehistoria se desarrolló la, es decir, las personas aprendieron a fundir metales en, moldearlos y pulirlos. Comenzaba la Edad de los

5. Señala si las siguientes frases son verdaderas (V) o falsas (F) y escribe correctamente las falsas.

- A. El gran avance del Paleolítico fue el dominio del fuego.

☐

- B. En el Neolítico se empezó a fundir metales para fabricar armas.

☐

- C. El Neolítico se desarrolló desde el 8000 a. C.

☐

- D. Durante la Edad de los Metales se desarrolló el comercio con monedas.

☐

6. Une con flechas cada imagen con la palabra correspondiente.



fuego

pintura

telar

cerámica

menhir