

**NOMBRE:**

1.- Complete: Escriba la tecla que falta.

FILA NUMÉRICA

1									
---	--	--	--	--	--	--	--	--	--

FILA SUPERIOR

Q		E		T	Y		I		P
---	--	---	--	---	---	--	---	--	---

FILA CENTRAL





















	S	D			H	J			Ñ
--	---	---	--	--	---	---	--	--	---

FILA INFERIOR

Z	X				B	N			
---	---	--	--	--	---	---	--	--	--

TECLA SHIFT

DIGITE LA TECLA SHIFT	MAS LA TECLA	OBTENEMOS
		
		
		

SI DIGITAMOS LA TECLA SHIFT	Y LA TECLA DEL NÚMERO	OBTENEMOS EL SIGNO DE
		
		
		
		
		
		
		
		
		
		

3.- Escriba 15 palabras con las siguientes teclas:

