

Aluno (a): _____ Série/Turma: _____

Disciplina: Geografia

Data: ____/____/2021

1. Leia as afirmativas abaixo e assinale V (verdadeiro) e F (falso):

- () Rússia, China, Chile e Argentina são os países com maior território do mundo.
- () Atualmente, a maior parte da população mundial vive nas áreas rurais.
- () Migração é quando uma pessoa nasce cresce e morre na mesma cidade.
- () A população migra em busca de melhores condições de vida: procurar emprego, morar em regiões com melhores condições climáticas, fugir de conflitos e de desastres naturais.
- () O Índice de Desenvolvimento Humano (IDH) é um indicador criado pela ONU para avaliar a qualidade de vida das pessoas em cada país.

2. O que são migrações?

3. Quais são os motivos que levam a população a migrar?

4. O aumento da população urbana cresceu a partir da década de 1970. Quais motivos fizeram com que a população saísse do campo para morar nas cidades?

5. Associe:

- | | |
|------------------------|---|
| (A) Migração externa | () População que precisa sair do país por conflitos. |
| (B) Migração interna | () População que se desloca para outro país. |
| (C) Refugiados | () Medo ou aversão em relação aos estrangeiros. |
| (D) Xenofobia | () População que se desloca dentro do mesmo país. |

6. Atualmente, diversos países possuem importância econômica, tecnológica e militar, não sendo mais representados pelo mundo bipolar. Os representantes do mundo bipolar durante a Guerra Fria eram:


Estados Unidos da América (bloco _____) e União Soviética (bloco _____).

7. Associe cada imagem ao seu tipo de deslocamento:

(A) Migração pendular

(B) Migração Sazonal

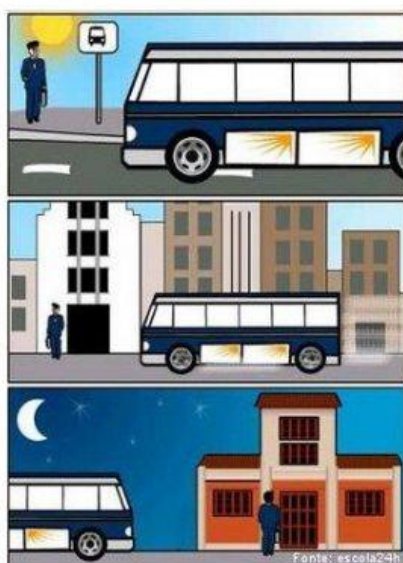
(C) Êxodo rural



()

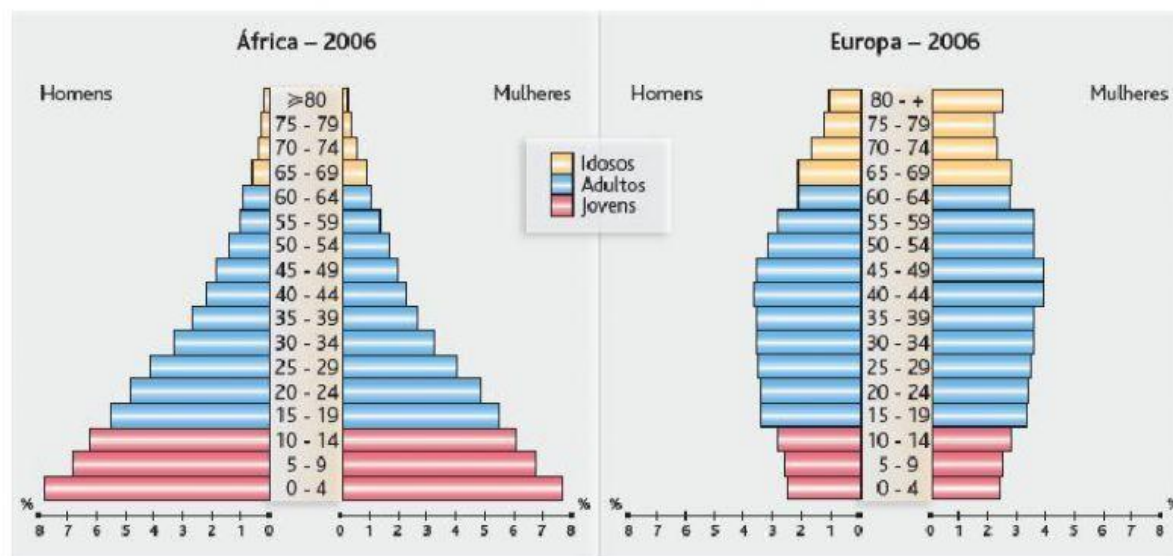


()



()

8. Observe as pirâmides etárias da África e da Europa.



a) Qual dos dois continentes tem mais jovens (entre 0 e 14 anos)?

b) Qual dos dois continentes tem mais idosos (entre 65 e 80 anos)?

c) Qual dos dois continentes tem mais adultos (entre 19 e 64 anos)?
