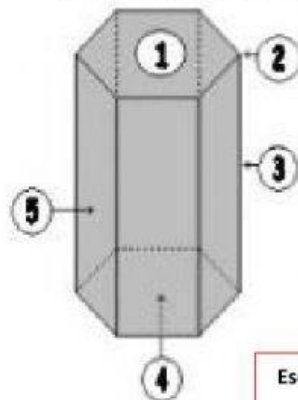


# PIRÁMIDES Y PRISMAS

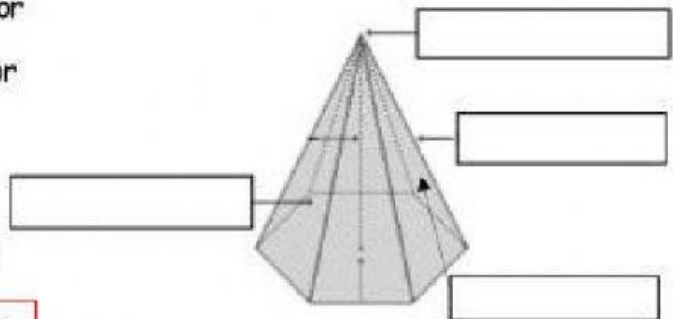
I.- Identifica los elementos de un prisma:



- ( ) Base superior
- ( ) Base inferior
- ( ) Arista
- ( ) Vértice
- ( ) Cara lateral

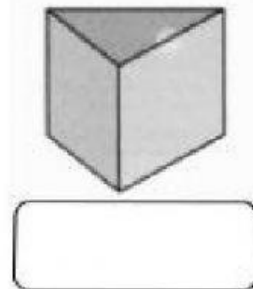
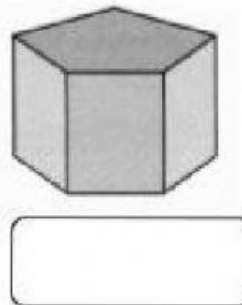
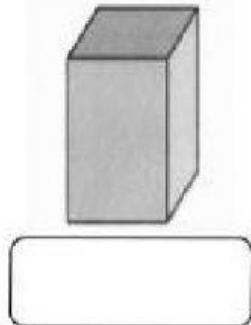
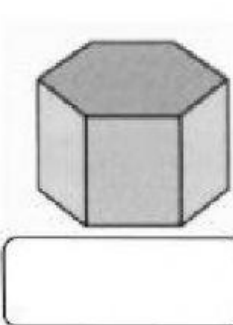
Escribe el número correspondiente en el paréntesis.

II.- Escribe el nombre de los elementos de una pirámide



Inicia las respuestas con mayúsculas.

II.- Escribe el nombre de los siguientes cuerpos geométricos:



III.- Analiza los siguientes cuerpos geométricos, ilumina y contesta

Todas las respuestas van con letra e inician con mayúscula.



1.- Nombre del cuerpo: \_\_\_\_\_

2.- Número de aristas: \_\_\_\_\_

3.- Número de vértices: \_\_\_\_\_

4.- Número de caras laterales: \_\_\_\_\_



1.- Nombre del cuerpo: \_\_\_\_\_

2.- Número de aristas: \_\_\_\_\_

3.- Número de vértices: \_\_\_\_\_

4.- Número de caras laterales: \_\_\_\_\_