

**Lee las siguientes situaciones y escribe en el cuadro la respuesta correcta. Ayúdate con las imágenes.**

Mi mamá compró dos cajas de galletas, si mi tía compró el doble. ¿Cuántas cajas tienen mi tía?



DOBLE



Luis tenía \$ 25. llevó su bicicleta al taller y le cobraron el doble de dinero que tenía. ¿Cuánto dinero le cobraron?



DOBLE



Gabriela compró 7 rosas y Samantha compró el doble que ella. ¿Cuántas rosas compró Samanta?




DOBLE






## Completa



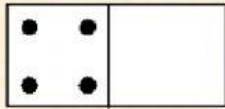
$$5 + \square = \dots\dots\dots$$

El doble de 5 es  



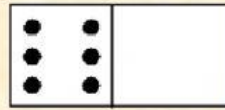
$$3 + \square = \dots\dots\dots$$

El doble de 3 es  



$$4 + \square = \dots\dots\dots$$

El doble de 4 es  



$$6 + \square = \dots\dots\dots$$

El doble de 6 es  



## Selecciona la respuesta correcta.

El triple de 8 es:  

El triple de 6:  


30 es el triple:  

El triple de 1 centena es:  

Si al triple de 2, le agrego 4, tengo:  

El triple de 10, menos 4 es:

**¿Cuál es su mitad?**



**Selecciona los números que corresponden a su mitad.**

