



















Tabla venta de bicicletas

Enero				
Febrero				
Marzo				
Abril				
Mayo				
Junio				

SEGÚN LA TABLA ANTERIOR COMPLETA LAS PREGUNTAS :

- ¿QUE MES SE VENDIERON MAS BICICLETAS?
- ¿EN MAYO CUANTAS BICICLETAS SE VENDIERON?
- ¿ EN QUE MES SE VENDIERON MENOS BICICLETAS?
- ¿ EN QUE MES SE VENDIERON 4 BICICLETAS?
- ¿ EN QUE MES SE VENDIERON 6 BICICLETAS?
- COMPLETA LA TABLA SEGÚN LA CANTIDAD CORRESPONDIENTE

