


EL RELOJ

FICHA ECHA POR DAVID- 2011.

VE EL SIGUIENTE VIDEO.



1. Escribe las siguientes horas.







2. Une según los relojes digitales.



10 : 15

Las seis y cuarto.



08 : 45

Las diez y cuarto.



01 : 45

Las dos menos cuarto.



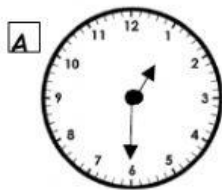
06 : 15

Las nueve menos cuarto.

3. Escucha y luego escribe con letra la hora que escuchas.



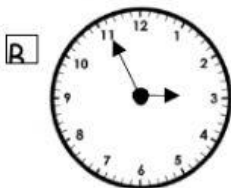
4. ¿Cual hora es intrusa que no depende de la imagen del reloj?



A) Las una menos cuarto.

B) Las una y media.

C) Las seis y cinco.



A) Las tres menos cinco.

B) Las tres y once.

C) Las cinco y quince.