
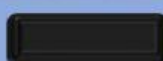
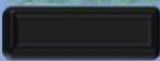

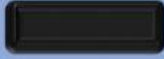


# Relieve de Costa Rica



1. Observa cada imagen e identifica las diferentes formas del relieve de nuestro país.



2. Ahora intenta asociar la definición a la imagen que le representa.



Son grupos de montañas, que se encuentran unas al lado de la otra. Presentan gran altura.



Son elevaciones grandes en el terreno, que se encuentran cubiertas por vegetación.



Son corrientes de agua dulce que nacen en las partes altas de las montañas.



Son zonas en las cuales la tierra tiene contacto con el mar.



Es una montaña que posee un cráter, por el cual expulsa lava, rocas, gases y ceniza.



Son territorios de poca altura, rodeados por montañas y por lo general, recorridos por un río.



Creando juntos...