
























¿Cuál es tu juguete favorito?

1. Cuenta los juguetes preferidos por los niños de 2do grado y completa el cuadro.

Registramos en nuestra tabla de frecuencia

Juguete						
Conteo de palotes						
En números						

Analizamos nuestros resultados

1. ¿Qué juguete prefieren los niños del 2do grado?

2. ¿Qué juguete prefieren menos los niños del 2do grado?

3. ¿Qué juguetes obtuvieron la misma cantidad?

4. ¿Cuántos niños fueron encuestados?
