

Practiquemos para el Desafío


#2 de Matemática



1. Escriba la cantidad y cuántas centenas, decenas y unidades hay, como se ve en el ejemplo:

213

2 C, 1 D y 3 U




1



___ C , ___ D y ___ U

2



___ C , ___ D y ___ U

3




___ C , ___ D y ___ U

4



___ C , ___ D y ___ U

5



___ C , ___ D y ___ U

Practicemos para el Desafío

#2 de Matemática



2. Completa el conteo:

a. De 5 en 5:

215					
-----	--	--	--	--	--

a. De 10 en 10:

525					
-----	--	--	--	--	--

b. De 100 en 100:

235					
-----	--	--	--	--	--

3. Escribe con cifras cada número:

a. Doscientos uno: _____

b. Ochocientos cuarenta y siete: _____

c. Ciento veintitrés: _____

d. Quinientos setenta y dos: _____

e. El número formado por 6 C, 5 D y 4 U: _____

f. El número formado por 8 C, 9 D y 2 U: _____

g. El número formado por 1 C, 1 D y 4 U: _____

h. El número formado por 4 C, 8 D y 9 U: _____

i. Novecientos veintidos: _____

j. Ciento cincuenta: _____

k. Setecientos nueve: _____

l. Trescientos ocho: _____

Practicemos para el Desafío #2 de Matemática



4. Cuenta las monedas y escribe en cifras el total:



Total:



Total:



Total:



Total: