

Escola Municipal Anápolis, de de Professor (a): Estudante: Turma: Talentos do
CORACÃO

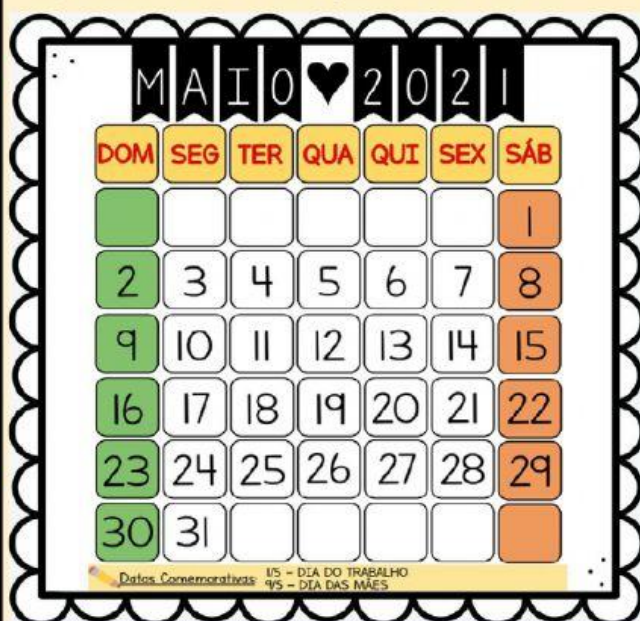
PENSANDO E CALCULANDO



ESTE É O CALENDÁRIO DO MÊS DE MAIO, DO ANO DE 2021. VAMOS MARCAR ALGUMAS DATAS IMPORTANTES DESTE MÊS.

A) MARQUE UM "X" OS SÁBADOS E DOMINGOS.

B) ARRASTE O CORAÇÃO PARA O DIA DO TRABALHADOR.



2- QUAL É O MÊS DO CALENDÁRIO?

**ABRIL****MAIO**

3- QUANTOS DIAS POSSUI ESTE MÊS?

**29****30****31**

4- O QUE É COMEMORADO NO DIA 1º DE MAIO?

**DIA DO
TRABALHADOR****PÁSCOA**

5- QUANTOS SÁBADOS TEMOS ESTE MÊS?

DATAS IMPORTANTES:

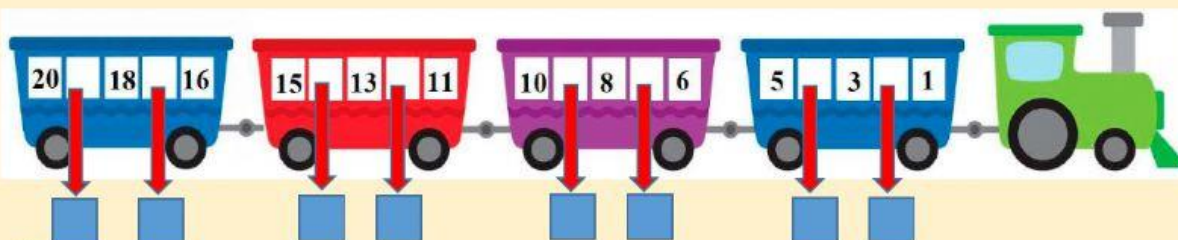
1º DE MAIO – DIA DO TRABALHADOR

12 DE MAIO – DIA DAS MÃES

13 DE MAIO – ABOLIÇÃO DA ESCRAVATURA









 - ESCREVA OS NÚMEROS QUE ESTÃO FALTANDO NA SEQUÊNCIA DECRESCENTE.








 OBSERVE O PADRÃO E DESENHE AS FORMAS QUE FALTAM PARA CONTINUAR A SEQUÊNCIA.







A)


								
---	---	---	---	---	---	--	--	--

B)

								
---	---	---	---	---	--	--	--	--

C)

								
--	--	--	--	--	--	--	--	--








 OBSERVE E ESCREVA O NOME DO PRÓXIMO TRABALHADOR NA SEQUÊNCIA.



É muito importante aprendermos os NOMBES DOS NUMERAIS! Fique esperto (a)!

 TODOS OS NÚMEROS TÊM NOME. LEIA OS NOMBES DOS NUMERAIS E SELECIONE CORRETAMENTE.

 NOVE	 CINCO	 SEIS	 DOIS	 SETE
(1) (5) (9)	(4) (5) (6)	(4) (5) (6)	(2) (4) (5)	(5) (6) (7)



HOJE VAMOS APRENDER SOBRE **UNIDADE E DEZENA**! FIQUE ESPERTO (A)!




1 UNIDADE




10 UNIDADES = 1 DEZENA



ARRASTE E REPRESENTE OS NÚMEROS ABAIXO UTILIZANDO  PARA REPRESENTAR AS UNIDADES E  PARA REPRESENTAR AS DEZENAS.

16



2



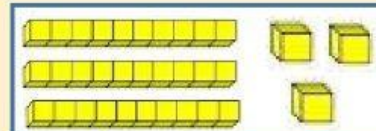
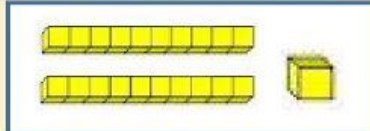
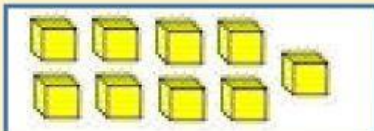
9



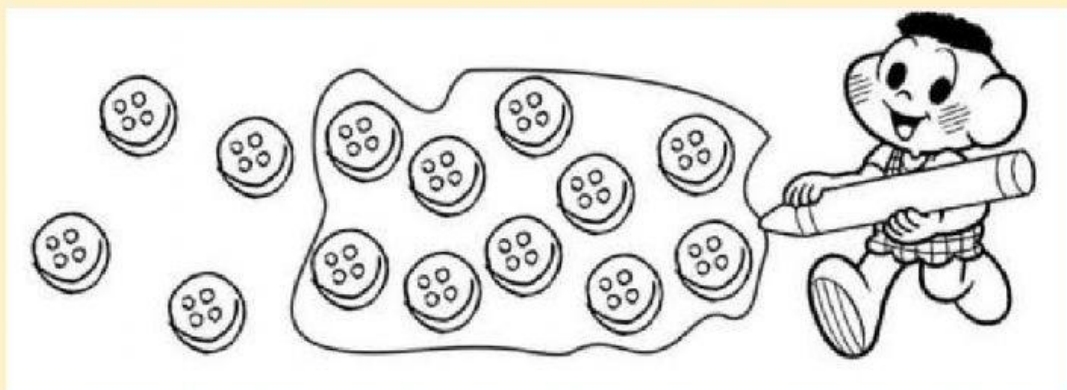
21



33



DESAFIO MATEMÁTICO



O AGRUPAMENTO QUE CASÇÃO FEZ DOS BOTÕES É IGUAL A BOTÕES.

ESSA QUANTIDADE É IGUAL A:

1 DEZENA

1 DÚZIA

QUANTOS BOTÕES FICARAM FORA DO GRUPO?

VAMOS BRINCAR DE SOMAR?

$$\begin{array}{|c|} \hline \bullet \bullet \bullet \bullet \\ \hline \end{array} + \begin{array}{|c|} \hline \bullet \\ \hline \end{array} = \begin{array}{|c|} \hline \\ \hline \end{array}$$

$$\begin{array}{|c|} \hline \bullet \bullet \\ \hline \end{array} + \begin{array}{|c|} \hline \bullet \bullet \\ \hline \end{array} = \begin{array}{|c|} \hline \\ \hline \end{array}$$

$$\begin{array}{|c|} \hline \bullet \bullet \\ \hline \end{array} + \begin{array}{|c|} \hline \bullet \bullet \\ \hline \end{array} = \begin{array}{|c|} \hline \\ \hline \end{array}$$

$$\begin{array}{|c|} \hline \bullet \bullet \bullet \\ \hline \end{array} + \begin{array}{|c|} \hline \bullet \bullet \\ \hline \end{array} = \begin{array}{|c|} \hline \\ \hline \end{array}$$



NÃO SE ESQUEÇA: QUE QUEM VEM ANTES CHAMAMOS DE **ANTECESSOR** E QUEM VEM DEPOIS **SUCESSOR**.

ESCREVA O ANTECESSOR E O SUCESSOR DOS NÚMEROS A SEGUIR.



PARABÉNS

Você conseguiu!!



AMEI
SUA
ATIVIDADE

SHOW 🥰

TIRE UM PRINT DE TODA
A ATIVIDADE E ENVIE
PARA WHATSAPP!

