

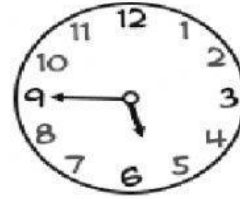


La hora y las unidades de tiempo

I. Escribe la hora indicada:







II. Llena los blancos.

- a. 1 año tiene _____ días
- b. 1 año tiene _____ meses
- c. 1 año bisiesto tiene _____ días
- d. 1 día tiene _____ horas
- e. 1 hora tiene _____ minutos

III. Compara las unidades de tiempo usando <, > o =.

- a) 3 semanas _____ 365 días
- b) 1 semana _____ 7 días
- c) 2 años _____ 360 días
- d) 52 semanas _____ 3 años
- e) 2 horas _____ 120 minutos

III. Completa la tabla

Tiempo inicial	Tiempo final	Tiempo transcurrido	Unidad
9:00 a.m.	9:30 a.m.	30	minutos
8:45 a.m.	9:00 a.m.		
3:30 p.m.	4:30 p.m.		
9:15 a.m.	9:30 a.m.		
9:00 a.m.	9:00 p.m.		
7:30 p.m.	8:00 p.m.		
9:30 a.m.	9:45 a.m.		