
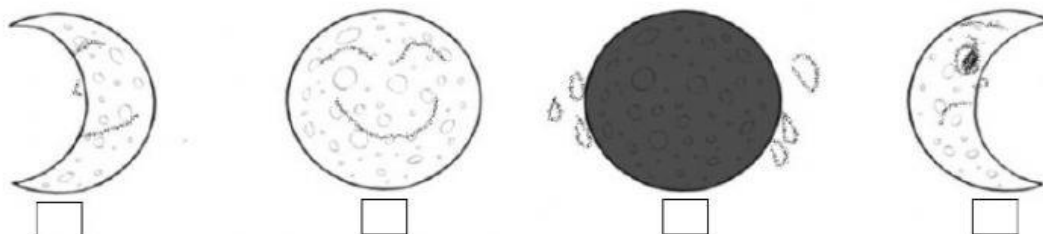


# EL SOL, LA TIERRA Y LA LUNA

Marca el nombre de los planetas.



¿Cómo podemos ver la Luna desde la Tierra?  
Observa y une.



## LUNA LLENA

Cuando está llena y blanca toda la noche ríe y canta.

## CUARTO CRECIENTE

La Luna está sonriente empieza el cuarto creciente.

## CUARTO MENGUANTE

Poco a poco entristece, se entristece es porque decrece.

## LUNA NUEVA


Cuando es nueva, se esconde, está llorando y no sabe donde.

¡¡RECUERDA!! LA Luna es mentirosa, cuando dibuja una C es menguante y cuando dibuja una D es creciente.

¿Qué momento del día es?



ATARDECER

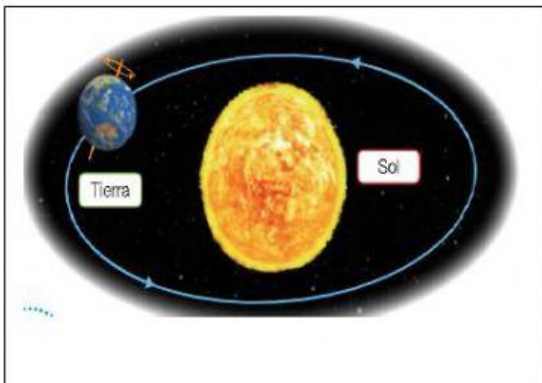


MEDIODIA

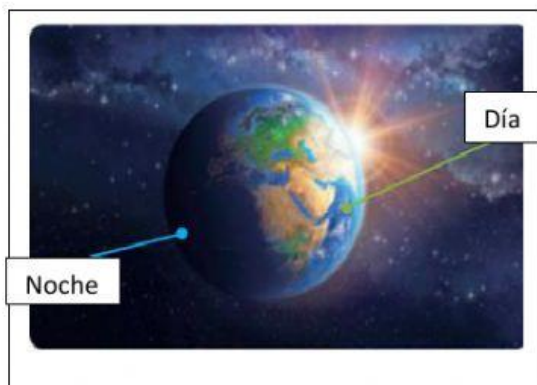


AMANECER

Los movimientos de la Tierra. Une.



La Tierra gira sobre sí misma y da lugar al día y la noche.



La Tierra gira alrededor del Sol. Durante este movimiento, se suceden las estaciones: primavera, verano, otoño e invierno.