

# NATURALES



## 1.- Relaciona.

Volumen



Es la cantidad de materia que tiene un cuerpo. Se mide en kilogramos, con una báscula o una balanza.

Masa



Es el espacio que ocupa un cuerpo. Se mide en litros, con vasos o jarras medidores.

## 2.-Completa las frases arrastrando las palabras.

Materia

Volumen

Masa

- Todo lo que nos rodea es \_\_\_\_\_.
- Las propiedades generales de la materia son la \_\_\_\_\_ y el \_\_\_\_\_.



## 3.-Completa las frases arrastrando las palabras.

Resistentes

Frágiles

Opacos

Transparentes

Impermeables

Elásticos

- Los materiales pueden ser \_\_\_\_\_ , \_\_\_\_\_ , \_\_\_\_\_ y \_\_\_\_\_.
- También pueden tener otras propiedades, como flotar o ser atraídos por un imán.



4.-Completa con las palabras.

Fuerza

Forma

Atraerlo

Movimiento

- La \_\_\_\_\_ es la acción que se ejerce sobre un objeto.
- Puede \_\_\_\_\_, o cambiar su \_\_\_\_\_ o su \_\_\_\_\_.




5.-Lee y escribe V si es verdadero y F, si es falso.



Los imanes atraen todos los objetos.



La Tierra nos atrae con una fuerza que se llama gravedad.





Cuando cogemos un libro, hacemos fuerza para sostenerlo.



Después de aplastarla, la plastilina recupera su forma por sí sola.

6.-¿Hacia dónde se mueven estos objetos? Pincha en la flecha correcta.





7.- Completa con las palabras.

Sonido

Timbre

Tono

Intensidad

- Cuando un objeto vibra, se produce un \_\_\_\_\_ que percibimos con los oídos.
- Las cualidades de sonido son: \_\_\_\_\_ , \_\_\_\_\_ y \_\_\_\_\_.



8.-Marca la opción correcta en cada caso.

- El espacio que ocupa la materia se llama
- La masa se mide en

masa

volumen

gramos

litros

9.-¿Qué propiedades tiene estos objetos? Marca con un tick.



- ☐ frágil
- ☐ opaco
- ☐ elástico



- ☐ suave
- ☐ áspero
- ☐ opaco



- ☐ resistente
- ☐ frágil
- ☐ impermeable




- ☐ transparente
- ☐ elástico
- ☐ impermeable




10.- Marca el material que recupera su forma él solo después de aplicarle una fuerza.




11.- Ordena estos sonidos del mayo a menor intensidad.



un portazo



una hoja



un maullido



un concierto

Espero que te haya ayudado a estudiar!

