



# Instituto Harvard de Morelia

... *construyendo... el futuro ...de tus hijos...*

- Ciclo escolar 2020-2021.
- SECCION PRIMARIA.

**NOMBRE DEL ALUMNO:**

---

## EXÁMEN DE GEOGRAFÍA DEL MES DE ABRIL

1. ¿En qué momento un elemento de la naturaleza se convierte en recurso natural?

---

2. ¿A qué se le llama materia prima?

---

3. ¿Qué tipo de herramientas utiliza el hombre en la actualidad para la extracción de materias primas?

---

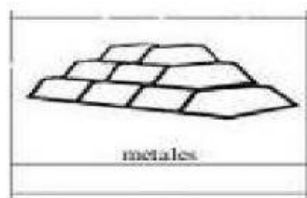
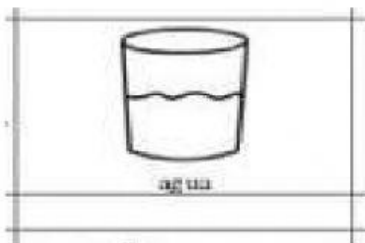
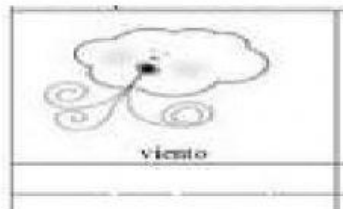

4. ¿Cuáles la actividad económica que predomina en tu localidad?

---

5. ¿Qué materias primas se utilizan en esta actividad económica?

---

Debajo de cada materia prima escribe la palabra renovable o no renovable según corresponda.





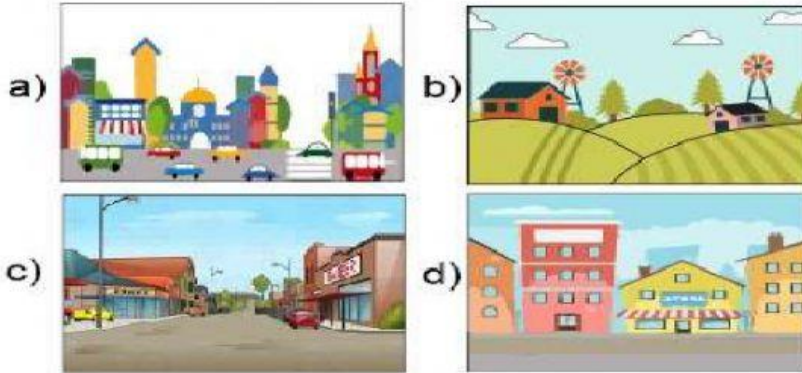
# Instituto Harvard de Morelia

... *construyendo... el futuro ...de tus hijos...*

- Ciclo escolar 2020-2021.
- SECCION PRIMARIA.

Lee cada pregunta y elige la opción que indique la respuesta correcta:

12. ¿Qué opción representa un medio rural?



13.- ¿Cuál de las siguientes actividades se desarrollan principalmente en el medio rural?

- a) Agricultura.
- b) Industria.
- c) Turismo.
- d) Comercio.

14.- Son características de un espacio urbano, excepto:

- a) Mayor cantidad de hospitales.
- b) Mayor número de centros comerciales.
- c) Disponibilidad de transporte público.
- d) Mayor extensión de suelo fértil para sembrar.

15.- Observa las imágenes y luego contesta.



¿Por qué son productos naturales?

- a) Porque son sanos.
- b) Porque son creados por el hombre para la salud.
- c) Porque existen en la naturaleza sin que el hombre las haya creado.
- d) Porque son indispensables para la tierra.

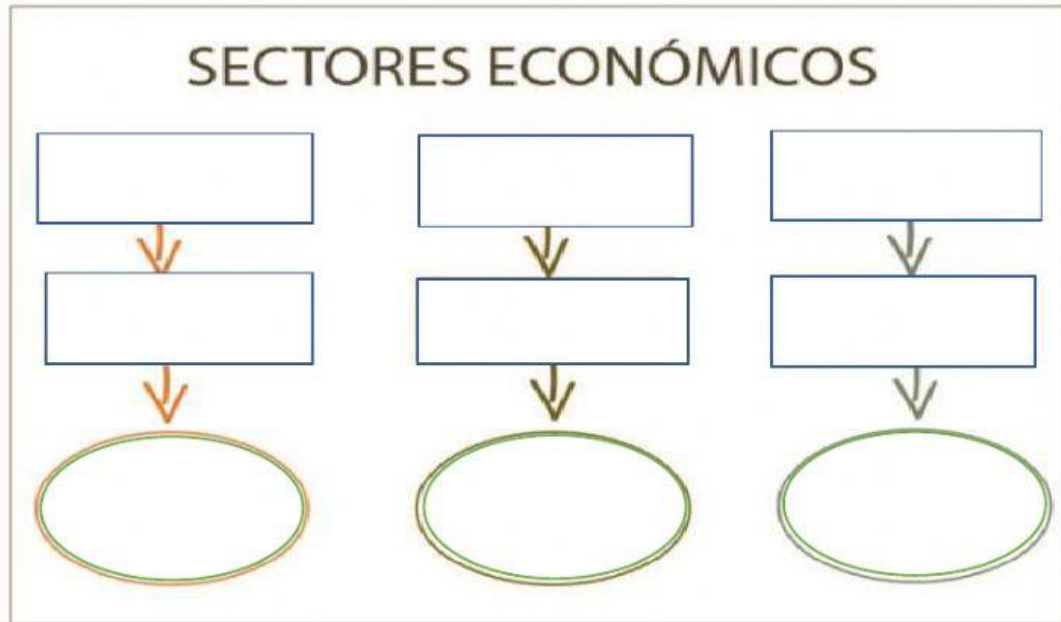


# Instituto Harvard de Morelia

... *construyendo... el futuro ...de tus hijos...*

- Ciclo escolar 2020-2021.
- SECCION PRIMARIA.

Arrastra y coloca los conceptos de los sectores económicos en donde corresponda.





Instituto Harvard de Morelia  
... *construyendo... el futuro ...de tus hijos...*  
• Ciclo escolar 2020-2021.  
• SECCION PRIMARIA.

Coloca cada producto con el material con que fueron elaborados:

plástico

aluminio

cuero