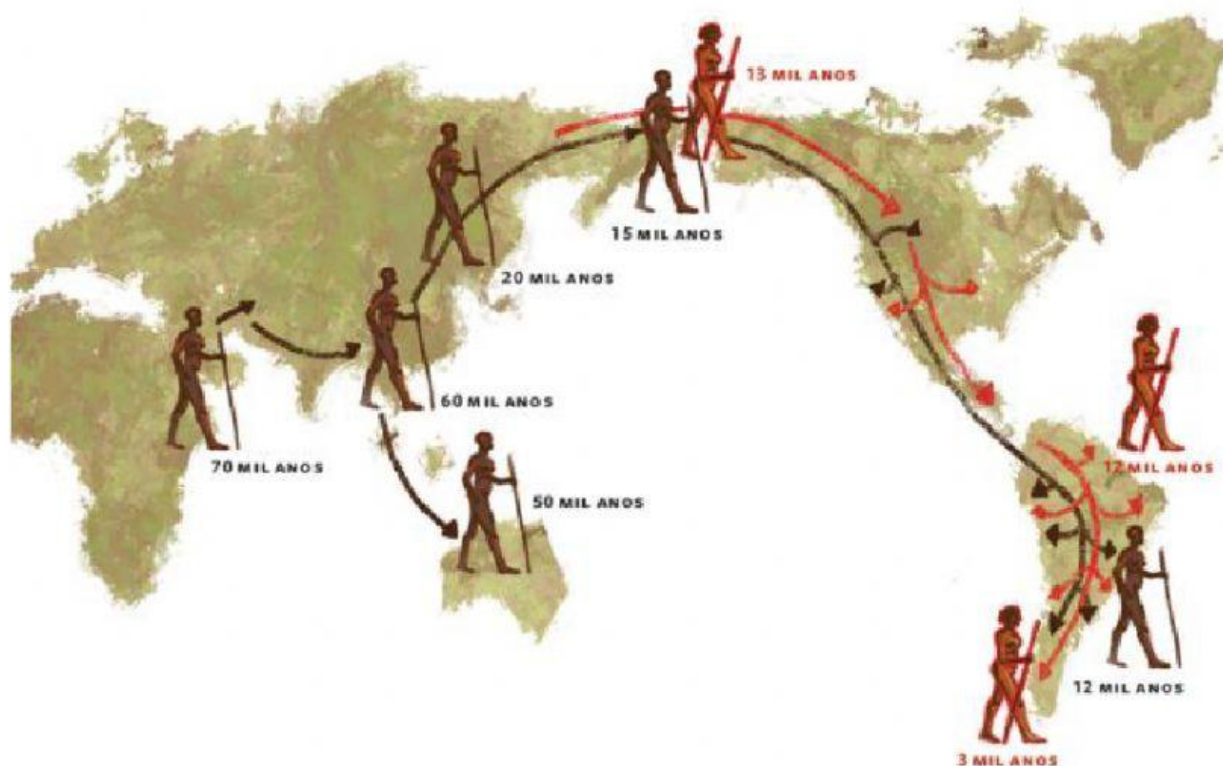


ALUNO(A): _____

DATA: ____ / ____ / ____ – 5º ANO ____ – PROF.: Suzane Araújo

REVISÃO TESTES 2 DE HISTÓRIA – I SEMESTRE

1. OBSERVE A IMAGEM E RESPONDA:



A) CONTINENTE NO QUAL SAIRAM OS PRIMEIROS SERES HUMANOS:

B) ÚLTIMO CONTINENTE A SER POVOADO:

C) PODEMOS AFIRMAR QUE OS CONTINENTES FORAM POVOADOS NO MESMO TEMPO?

2. COLOQUE NA ORDEM CORRETA AS ESPÉCIES HOMINÍDEAS.


HOMO SAPIENS

HOMO
ERECTUS

HOMO
NEANDERTHALENSIS

AUSTRALOPITHECUS

HOMO HABILIS



3. CARACTERIZE AS MARAVILHAS ABAIXO EM:

A – MARAVILHAS DO MUNDO ANTIGO


N – NOVAS SETE MARAVILHAS



MAUSOLÉO DE HALICARNASSO



MURALHAS DA CHINA



ESTÁTUA DE ZEUS



CHICHÉN ITZÁ



TEMPLO DE ÁRTEMIS.

4. LIGUE AS SETE NOVAS MARAVILHAS AOS SEUS RESPECTIVOS PAÍSES.



MURALHAS - CHINA



MACHU PICHU - CHILE



TAJ MAHAL



CRISTO REDENTOR - BRASIL



RUÍNAS DE PETRA - JORDÂNIA



CHICHÉN ITZÁ - MÉXICO



COLISEU - ROMA

5. MARQUE UM X NA RESPOSTA CORRETA.

- A) OS POVOS NÔMADES VIVIAM EM LOCAIS FIXOS;
- B) SABER PLANTAR FOI FUNDAMENTAL PARA OS POVOS SE SEDENTARIZAREM;
- C) OS POVOS NÔMADES CONSTRUÍRAM CASAS PERMANENTES;
- D) OS POVOS SEDENTÁRIOS PRECISAVAM CAÇAR PARA SOBRIVER POIS, NÃO CRIAVAM ANIMAIS.